

## Calcul mental

- Dictée de nombres



## Calcule.

$2 + 7 = \dots\dots\dots$

$8 + 5 = \dots\dots\dots$

$10 - 3 = \dots\dots\dots$

$7 - 7 = \dots\dots\dots$

$7 + 3 = \dots\dots\dots$

$2 + 6 = \dots\dots\dots$

$8 - 2 = \dots\dots\dots$

$10 - 9 = \dots\dots\dots$

$5 + 7 = \dots\dots\dots$

$6 + 5 = \dots\dots\dots$

$5 - 0 = \dots\dots\dots$

$9 - 3 = \dots\dots\dots$

$4 + 3 = \dots\dots\dots$

$4 + 4 = \dots\dots\dots$

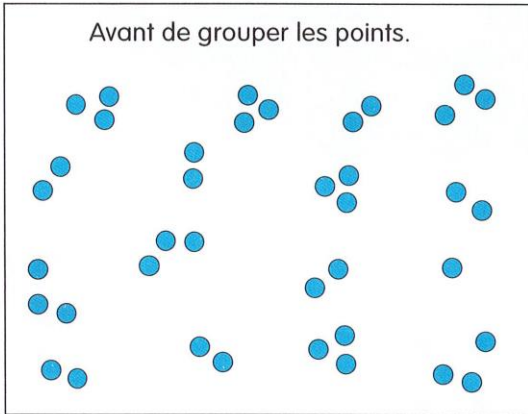
$6 - 4 = \dots\dots\dots$

$7 - 6 = \dots\dots\dots$


A

**Groupe** les points par 10, **dessine** les groupes de dix et les points isolés.

Avant de grouper les points.

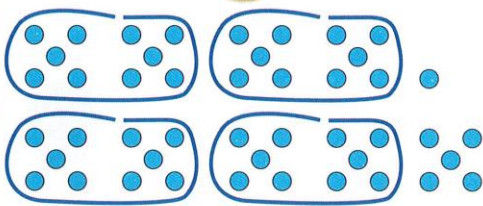


Après.




B

**Qui** a le plus ? **Quelle** est la différence ? **Complète.**



Dédé a ..... jetons.



Picbille a ..... jetons.

**Entoure** ou **barre**.

- C'est Dédé.
- C'est Picbille.
- Ils ont autant de jetons l'un que l'autre.

La différence est .....

C

**Complète** les nuages.



D

Dictée : nombres jusqu'à 59, dont quelques nombres entre 11 et 16.