


Date : \_\_\_\_\_

	ACTIVITÉS	COLLECTIF	INDIVIDUEL
Calcul mental	Problèmes dictés : addition, soustraction	✓	①
Réviser	Problèmes écrits : soustraction		②
Apprendre	Tableau des nombres	✓	③

### Problèmes dictés



1  \_\_\_\_\_

 \_\_\_\_\_



 \_\_\_\_\_

### Problèmes écrits



- 2 Arthur, Zoé et Gribouille lancent le dé et reculent leur pion. Écris le nombre d'arrivée.



Le pion sera sur .....



Le pion sera sur .....



Le pion sera sur .....

### Tableau des nombres

- 3 Écris les nombres dans les cases vertes.

0	1	2		4	5	6		8	9
				14	15	16	17	18	19
				24					
				34					
				44					
50	51	52	53	54					
				74			77		79
80				84	85				89
		92		94	95	96	97		99