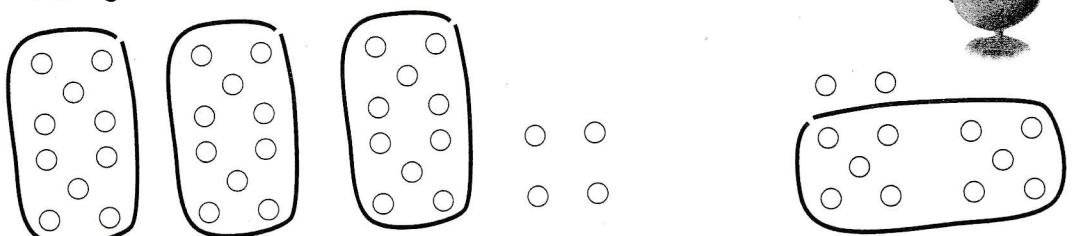


73 **Addition de deux nombres à 2 chiffres (1)**

A Un fermier a 34 vaches. Il en achète 12 à la foire. **Combien** de vaches a-t-il maintenant ?

Dédé calcule $34 + 12$.

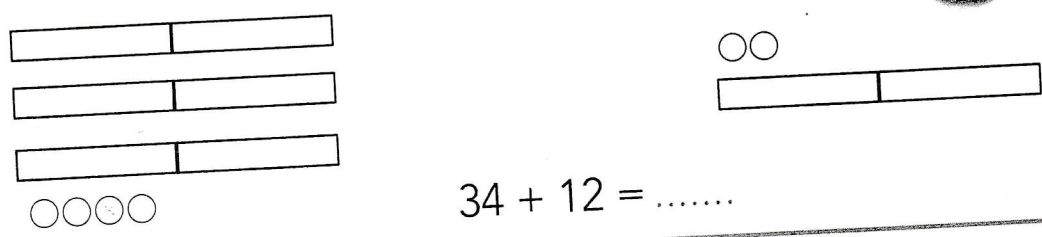
Il imagine que ses points sont des vaches. **Calcule.**



$34 + 12 = \dots\dots$

Picbille calcule $34 + 12$.

Il imagine que ses jetons sont des vaches. **Calcule.**




$34 + 12 = \dots\dots$

B Dans la cour, les élèves jouent avec 22 ballons. Dans l'armoire, il y a encore 14 ballons. **Combien** de ballons y aura-t-il dans l'armoire quand les élèves les auront tous rangés ?

Dédé calcule $22 + 14$.

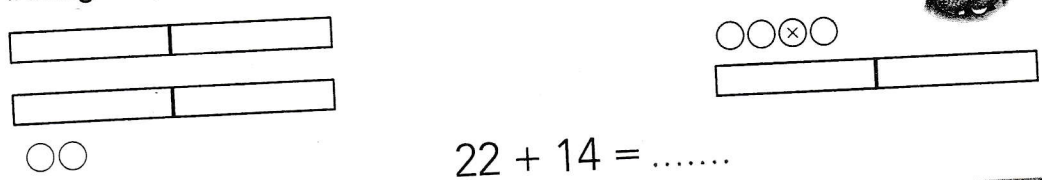
Il imagine que ses points sont des ballons. **Calcule.**



$22 + 14 = \dots\dots$

Picbille calcule $22 + 14$.

Il imagine que ses jetons sont des ballons. **Calcule.**



$22 + 14 = \dots\dots$