




Découvrir

Le photographe à l'école


- a** Complète les cases puis entoure :
- en rouge la photo de la classe où il y a le plus d'élèves,
 - en bleu la photo de la classe où il y a le moins d'élèves.




CP_A : M. Dupont élèves



CE1_A : Mme Laroche élèves



CP_B : Mme Martin élèves



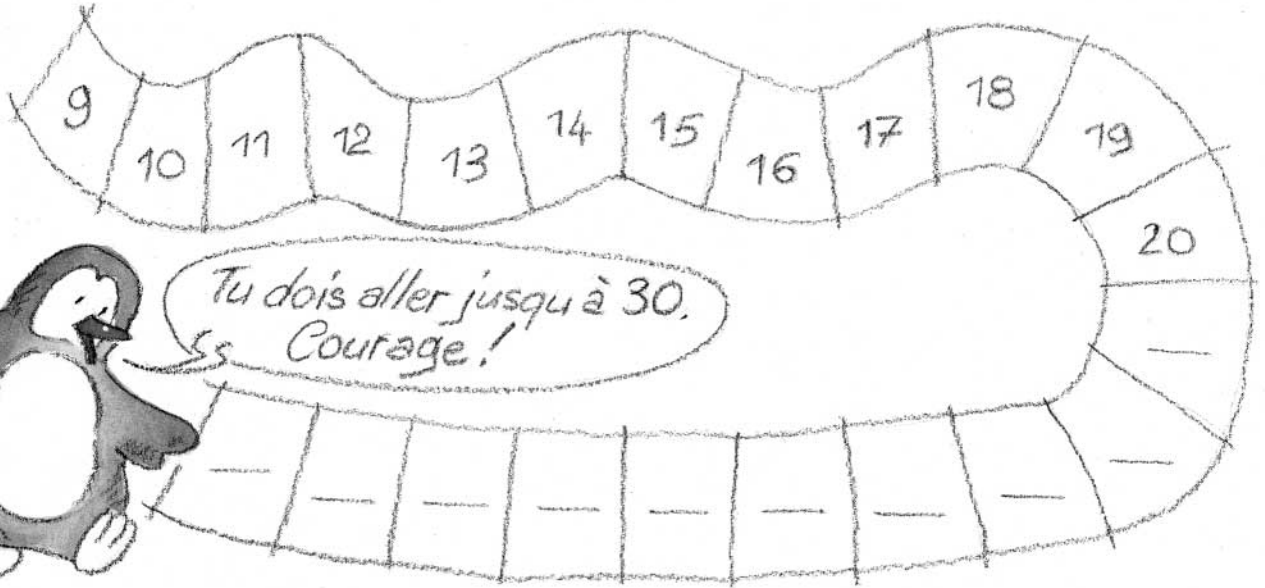
CE1_B : Mme Delorme élèves

- b** Écris le nom des classes, de celle qui a le moins d'élèves à celle qui en a le plus.



Retenir

Complète la bande numérique.



S'entraîner

1 Complète avec le signe qui convient ou avec un nombre.


a. $16 \square 26$ $30 \square 20$ $23 \square 27$ $29 \square 21$

b. $\square > 24$ $\square < 21$ $22 < \square$ $25 > \square$

c. $10 + 10 + 3 \square 23$ $10 + 10 + 2 \square 28$

d. $20 + 6 \square 27$ $20 + 5 \square 10 + 10 + 1$

2 Trace un chemin pour relier les nombres du plus petit au plus grand.



| Ordonner les nombres de 0 à 30