

Reproduire des figures

OBJECTIF : reproduire des figures en s'appuyant sur les milieux et les alignements de points.

CALCUL MENTAL

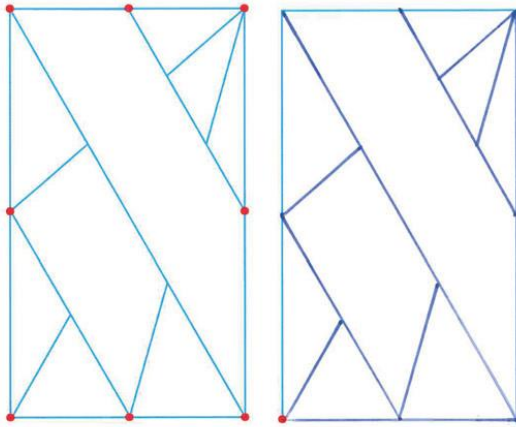
Faire calculer la moitié d'un nombre pair < 100.
Ex : 30 ; 34 ; ...
Écrire la moitié. (Travail à deux)

- 15
- 17
- 19
- 25
- 26
- 27
- 35

Place les milieux.
Prepère
les alignements
et les angles droits.

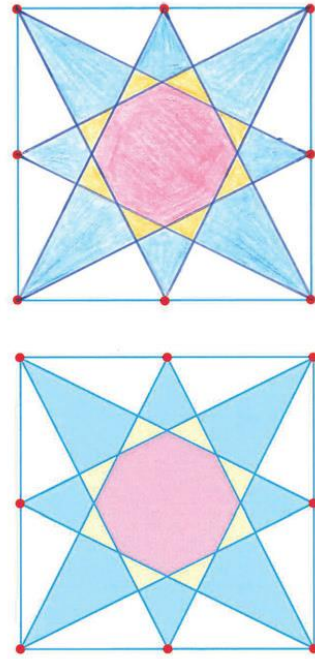


2 Reproduis la figure.



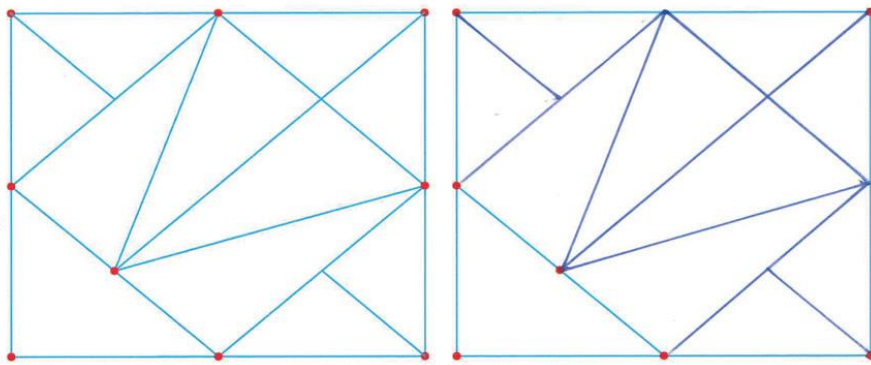
**

3 Reproduis la figure puis colorie.



**

1 Reproduis la figure.



Prepère les milieux
et les alignements.



**