

Semaine 6 : Jeudi

- Dictée de phrases sur ardoise (avec le cahier jaune à disposition):
(les mots soulignés sont à donner aux enfants)

Le dragon agile glisse sur la glace dans la montagne.

Je trace une ligne avec ma règle rouge.

Un gros pigeon gris regarde avec vigilance des légumes.

Une girafe orange garde un ogre mignon à la garderie.

- Exercice de phonologie sur les valeurs de la lettre G
- Exercices 4 p125 (A portée de mots ou utiliser les exercices retapés)
- Faire exercice fichier 75
- Réviser table de multiplication de 4
- Lecture : Le loup qui avait peur de son ombre.

Lire épisodes 6,7,8 + faire les questions de la fiche d'exercices 3

- Continuer d'apprendre et d'illustrer la poésie en entier.

Les valeurs de la lettre g

Exercice
S 26

1 Recopie seulement les mots où tu entends le son [g]



partager une guitare
kangourou l'orangeade
à gauche des gens
une tige gratuit

[g]









2 Complète avec g ou gu

une ...itare la ...arderie une ...renouille lon....e une
...épe le dra....on une ba....e uneirlande

3 Complète avec g ou ge

un pi....on une oran.... une horlo.... un ca....ot
uneirafe la rou.....ole la pa....e a....ile leenou

4 Écris les mots sous les dessins. Tu as deux essais.

			
1			
2			
			
1			
2			

N°4 p 125 : Remplace le mot en gras par son synonyme.

Choisis parmi les mots suivants : huttes – erreur – pèle – rusé – caïman

Elisa n'a fait qu'une **faute** _____ dans sa dictée.

Au zoo, nous avons vu un **crocodile** _____ long de plus de cinq mètres.

Kilian **épluche** _____ sa pomme avec un couteau.

Le renard est un animal très **malin** _____.

Autrefois, les hommes vivaient dans des **cabanes** _____.

OBJECTIF : prolonger la technique de l'addition posée à retenue sur des nombres à trois chiffres.

CALCUL MENTAL

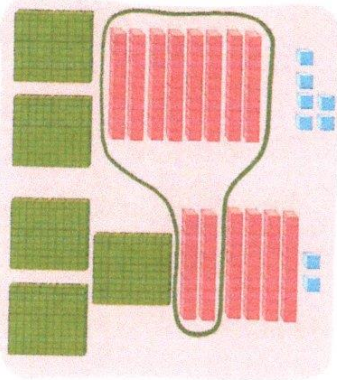
Demander la suite croissante puis la suite décroissante de 10 en 10 à partir de 53. Écrire les suites. (Travail par deux.)

↗ +10 ↘ -10

(53) 63 73 83 (53) 43 33 23

1 Utilise ton matériel pour comprendre le calcul. Complète l'addition.


Matériel cartonné



	c	d	u
	1		
	2	8	6
+	3	6	2
	6	4	8

14

8 dizaines et 6 dizaines, ça fait 14 dizaines.
14 dizaines, c'est 1 centaine et 4 dizaines.



2 Effectue les additions.

Attention aux retenues!



	c	d	u
	4	5	2
+	3	7	3
	8	2	5

	2	7	8
+	3	1	5
	5	9	3

	5	7	2
+	1	4	3
	7	1	5

	3	1	5
+		8	6
+	2	8	4
	6	8	5

3 Pose et effectue les additions. *un chiffre par carreau!*

392 + 246

437 + 156 + 221

489 + 206 + 46

	3	9	2
+	2	4	6
	6	3	8

	4	3	7
+	1	5	6
+	2	2	1
	8	1	4

	4	8	9
+	2	0	6
+		4	6
	7	4	1

4 Problème

Dans une salle de spectacle, 186 places sont occupées. Il reste encore 54 places libres.

Combien de personnes cette salle peut-elle contenir ?

$186 + 54 = 240$

Cette salle peut contenir 240 personnes.

	1	86
+		54
	2	40