

- Français

<p>OPF, 1 p 148</p> <p>a. Il doit réciter son poème.</p> <p>b. Il a récité son poème.</p> <p>c. Le jour du 1er mai, Mathias a acheté des brins de muguet sur la place du marché.</p> <p>d. Le jour du 1er mai, Mathias va acheter des brins de muguet.</p> <p>e. Tu dois réviser ta leçon de géographie.</p> <p>f. Tu as révisé ta leçon de géographie.</p>	<p>OPF, 4 p 149</p> <p>a. J'ai rangé mon manteau dans la penderie.</p> <p>b. Il faut accrocher ce tableau magnifique au-dessus de la cheminée.</p> <p>c. Pense à coller un timbre sur ta carte postale !</p> <p>d. Vous avez enfilé votre jupe à l'envers.</p> <p>e. Nous avons installé le piano dans un coin de la salle de musique.</p>
--	--

OPF, 4 p 173

Il faut recopier les phrases **a.**, **d.** et **f.**

Dictée :

Les verbes en vert ne font pas partie de la dictée. C'est simplement le truc pour savoir si on utilise :

- Un participe passé -> pris -> -é
- Un infinitif -> prendre -> -er

Le lièvre ne s'était guère éloigné (*pris*) de son gîte. Il avait simplement cherché (*pris*) à égarer (*prendre*) le chien dans les champs alentours ... Mais ce n'était plus le moment de ruser (*prendre*). Il s'attendait à tout moment à entendre éclater (*prendre*) derrière lui le tonnerre d'un coup de fusil.

- calculs posés :

on aligne les virgules / les unités

Add:

$$\begin{array}{r} 12105 \\ + 736 \\ \hline 12841 \end{array}$$

Soust:

$$\begin{array}{r} 7246104 \\ - 421788 \\ \hline 6824216 \end{array}$$

Mult:

$$\begin{array}{r} 5037 \\ \times 1042 \\ \hline 10074 \\ 201480 \\ 000000 \\ + 5037000 \\ \hline 5248554 \end{array}$$

Div:

51 x 1 = 51	51 x 8 = 408	$\begin{array}{r} 8240 \overline{) 51} \\ - 51 \downarrow \\ \hline 314 \\ - 306 \\ \hline 008 \\ - 51 \\ \hline 29 \end{array}$
51 x 2 = 102	51 x 9 = 459	
51 x 3 = 153	51 x 10 = 510 ✓	
51 x 4 = 204		
51 x 5 = 255		
51 x 6 = 306		
51 x 7 = 357		

3 a. $0,5 + 0,5 = 1$

b. $0,8 + 0,2 = 1$

c. $0,6 + 0,4 = 1$

d. $0,3 + 0,7 = 1$

e. $7,5 + 2,5 = 10$

f. $8,5 + 1,5 = 10$

g. $0,5 + 9,5 = 10$

h. $6,5 + 3,5 = 10$

4 $2,5 + 2,5 = 5$

$1,5 + 3,5 = 5$

$0,5 + 4,5 = 5$

$3,9 + 1,1 = 5$

$2,2 + 2,8 = 5$

Handwritten addition problems on grid paper:

Top left: $n^{\circ} 8 p 83$
$$\begin{array}{r} 45,95 \\ + 42,56 \\ \hline 88,51 \end{array}$$



Top right:
$$\begin{array}{r} 120,35 \\ + 456,15 \\ \hline 576,50 \end{array}$$

Bottom left:
$$\begin{array}{r} 152,30 \\ + 45,36 \\ + 41,05 \\ \hline 238,71 \end{array}$$

Bottom right:
$$\begin{array}{r} 125,86 \\ + 23,45 \\ + 2,04 \\ \hline 151,35 \end{array}$$

Ex. 1 : 1. À 15-24 ans, illustré à travers l'exemple du cinéma ; 2. La lecture et les pratiques artistiques sont plus féminines ; 3. Non, en raison d'une offre plus variée en ville qu'à la campagne.

Notre livre :


Couverture 4^{ème} de couverture

1 Avant de commencer à lire...

- Qui est l'auteur ? Roald Dahl
- Qui est l'illustrateur ? Quentin Blake
- Qui est l'éditeur ? Folio
- Combien y a-t-il de chapitres ? 18
- Quel est le titre du chapitre 6 ? La course
- Quel chapitre porte le titre : "Blaheur" ? 12
- Combien d'enfants a l'auteur ? 5
- En quelle année est né Tony Ross ? 1938
- Trouve le titre de deux autres livres de Roald Dahl :

1) Dans Champion du monde / 2) Petit manuel des gens riches / 3) Les trois souhaits
 4) L'énigme du croquet / 5) Ally et les minuscules / 6) Matilda / 7) 1, 2, 3

- Qui vit dans la vallée ? trois riches fermiers
- Qui vit en haut de la colline ? une famille de renards
- Comment s'appellent les deux personnages qu'on voit sur la couverture ?
 = Renard
 = des fermiers



8) Coup de gilet et autres histoires à faire peur / 9) Les contraires / 10) La potion magique de George Baillon / 11) Jams et la grosse pêche ...

1 Lis le chapitre 1 puis complète les cartes d'identité de chacun des fermiers :

CARTE D'IDENTITÉ

Nom : Boggis
 Profession : fermier
 Productions agricoles : élevage de poulets
 Taille / corpulence : très gros
 Alimentation : 3 poulets + croquette à chaque repas

CARTE D'IDENTITÉ

Nom : Beam
 Profession : fermier
 Productions agricoles : élevage de dinde + pommes
 Taille / corpulence : maigre
 Alimentation : Boit des litres de cidre tous les jours

CARTE D'IDENTITÉ

Nom : Bunce
 Profession : fermier
 Productions agricoles : élevage d'oies et de canards
 Taille / corpulence : maigre, très potent
 Caractère : épouvanté
 Alimentation : baignets et frites d'oies

1 Les trois fermiers ont aussi des traits de caractère en commun : recherche-les.

- riches
- méchants
- mesquins

Les trois fermiers portent des noms que l'auteur n'a pas choisis au hasard...

Lis le mini dictionnaire et explique pourquoi les trois fermiers portent ces noms.

mini dictionnaire	
anglais	français
bean	haricot
bogeyman	croque-mitaine (sorte de père fouettard ou d'ogre)
bun	petit pain rond pour hamburger

Celui-ci s'appelle Beam parce qu'il ressemble à un haricot

Celui-ci s'appelle Bunce parce qu'il ressemble à un petit pain rond

Celui-ci s'appelle Boggis parce qu'il mange comme un ogre

Lis le chapitre 2 puis complète la carte d'identité du renard :

CARTE D'IDENTITÉ

Nom : Maître Renard
~~CÉLIBATAIRE~~ - ~~MARIÉ~~ - ~~VEUF~~ - ~~VEUVÉE~~
 (rayez les mentions inutiles)
 nombre d'enfants : 4

Adresse précise : dans un trou sous un arbre, dans le bois, sur une colline, en haut de la vallée

Qualité principale : il est malin

Alimentation : poulet / canard / foie / dinde

Avant de lire le chapitre 3, peux-tu dire ce qui va se passer ?

- ☐ Maître Renard et sa famille vont être tués.
- ☐ Maître Renard va échapper de peu à la mort.
- ☐ La famille Renard va s'enfuir dans un autre pays.