



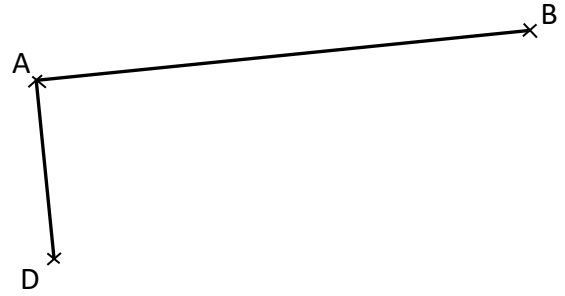
## Espace et géométrie : Les quadrilatères

Reproduire, représenter, construire des quadrilatères.

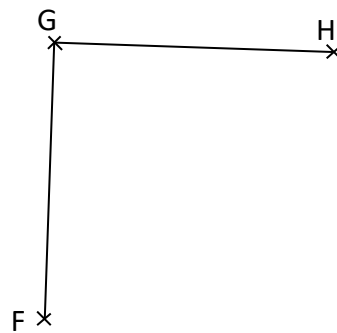
Fiche d'exercices n° 10  
Leçon 5



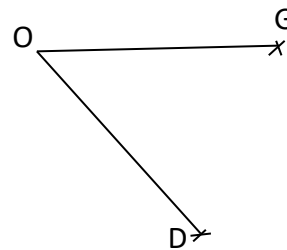
**Exercice 1** : On a commencé à tracer un rectangle ABCD.  
**Termine** la construction à l'aide des instruments de ton choix.  
**N'oublie pas** de placer le point C manquant.



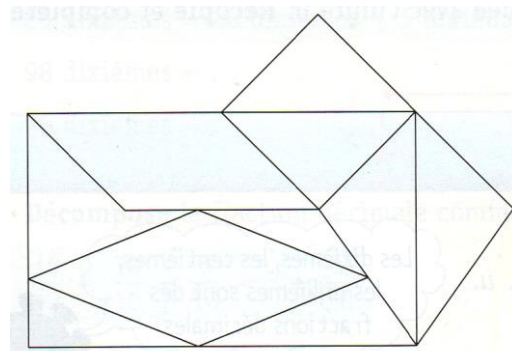
**Exercice 2** : On a commencé à tracer un carré FGHI.  
**Termine** la construction à l'aide des instruments de ton choix.  
**N'oublie pas** de placer le point I manquant.



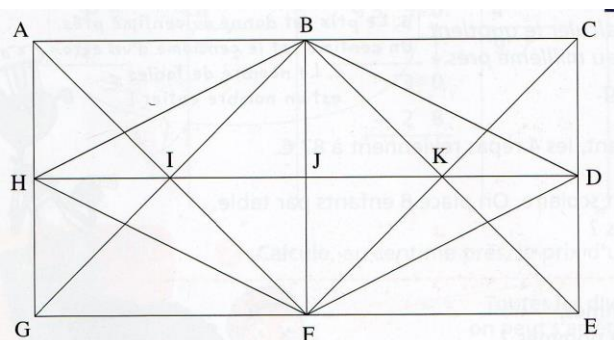
**Exercice 3** : On a commencé à tracer un losange OGVD.  
**Termine** la construction à l'aide des instruments de ton choix.  
**N'oublie pas** de placer le point V manquant.



**Exercice 4** : Dans cette figure, **repère** un carré en repassant ses côtés en rouge.  
**Repère** un losange en repassant ses côtés en vert.  
**Repère** un trapèze en repassant ses côtés en bleu.



**Exercice 5** : Dans cette figure, repère un carré, un rectangle, un losange et un parallélogramme.  
**Nomme-les** en utilisant les lettres qui désignent leurs quatre sommets.



**Exercice 6** : Dans cette figure, **trouve** le carré et le losange.

