



DEFI MATHS
EXPRESS n° 1

Le compte est bon :

45

2	10	2	5
---	----	---	---



DEFI MATHS
EXPRESS n° 2

Suite de nombres :

1-3-6-10-15- ?



DEFI MATHS
EXPRESS n° 3

Nombre mystère :

*Quel est le triple du double
de 6 ?*



DEFI MATHS
EXPRESS n° 4

Tangram :





DEFI MATHS
EXPRESS n° 5

Le compte est bon :

300

5	10	3	2
---	----	---	---



DEFI MATHS
EXPRESS n° 6

Suite de nombres :

1-3-9-27-?



DEFI MATHS
EXPRESS n° 7

Nombre mystère :

*Pour me trouver on peut
additionner 12 centaines et
13 unités.*



DEFI MATHS
EXPRESS n° 8

Tangram :





DEFI MATHS
EXPRESS n° 9

Le compte est bon :

216

7	10	3	6
---	----	---	---



DEFI MATHS
EXPRESS n° 10

Suite de nombres :

1-2-4-8-16- ?



DEFI MATHS
EXPRESS n° 11

Nombre mystère :

*Quel est le quart du double
de 12 ?*



DEFI MATHS
EXPRESS n° 12

Tangram :





DEFI MATHS
EXPRESS n° 13

Le compte est bon :

107

6	10	4	7
---	----	---	---



DEFI MATHS
EXPRESS n° 14

Suite de nombres :

256-128-64-32-?



DEFI MATHS
EXPRESS n° 15

Nombre mystère :

ABC

A est le chiffre des unités de 418.

B est le chiffre des dizaines de 965.

C est le chiffre des centaines de 781.



DEFI MATHS
EXPRESS n° 16

Tangram :





DEFI MATHS
EXPRESS n° 17

Le compte est bon :

51

3	10	2	1
---	----	---	---



DEFI MATHS
EXPRESS n° 18

Suite de nombres :

2-7-12-17-22- ?



DEFI MATHS
EXPRESS n° 19

Nombre mystère :

*Quel est le quadruple du
double de 5 ?*



DEFI MATHS
EXPRESS n° 20

Tangram :





DEFI MATHS
EXPRESS n° 21

Le compte est bon :

94

2	10	7	4
---	----	---	---



DEFI MATHS
EXPRESS n° 22

Suite de nombres :

2-3-5-9-17- ?



DEFI MATHS
EXPRESS n° 23

Nombre mystère :

ABC

A est le chiffre des unités de 542.

B est le chiffre des dizaines de 740.

C est le chiffre des centaines de 39.



DEFI MATHS
EXPRESS n° 24

Tangram :





DEFI MATHS
EXPRESS n° 25

Le compte est bon :

189

3	10	6	9
---	----	---	---



DEFI MATHS
EXPRESS n° 26

Suite de nombres :

1-11-10-20-19- ?



DEFI MATHS
EXPRESS n° 27

Nombre mystère :

*Quel est la moitié du triple
de 8?*



DEFI MATHS
EXPRESS n° 28

Tangram :





DEFI MATHS
EXPRESS n° 29

Le compte est bon :

206

5	10	4	6
---	----	---	---



DEFI MATHS
EXPRESS n° 30

Suite de nombres :

31-28-25-22-19-

?



DEFI MATHS
EXPRESS n° 31

Nombre mystère :

ABC

A est le chiffre des unités de 627.

B est le chiffre des dizaines de 905.

C est le chiffre des centaines de 357.



DEFI MATHS
EXPRESS n° 32

Tangram :





DEFI MATHS
EXPRESS n° 33

Le compte est bon :

99

9	10	4	5
---	----	---	---



DEFI MATHS
EXPRESS n° 34

Suite de nombres :

31-30-28-25-21-

?



DEFI MATHS
EXPRESS n° 35

Nombre mystère :

*Quel est le quart du double
de 18 ?*



DEFI MATHS
EXPRESS n° 36

Tangram :





DEFI MATHS
EXPRESS n° 37

Le compte est bon :

423

7	10	3	6
---	----	---	---



DEFI MATHS
EXPRESS n° 38

Suite de nombres :

154-144-134-

124-114- ?



DEFI MATHS
EXPRESS n° 39

Nombre mystère :

ABCD

A est le chiffre des unités de 372.

B est le chiffre des dizaines de 458.

C est le chiffre des centaines de 916.

D est le chiffre des unités de 541.



DEFI MATHS
EXPRESS n° 40

Tangram :





DEFI MATHS
EXPRESS n° 41

Le compte est bon :

208

4	10	8	5
---	----	---	---



DEFI MATHS
EXPRESS n° 42

Suite de nombres :

7-5-14-10-21-

15-?



DEFI MATHS
EXPRESS n° 43

Nombre mystère :

*Quel est le quart du double
de 8 ?*



DEFI MATHS
EXPRESS n° 44

Tangram :





DEFI MATHS
EXPRESS n° 45

Le compte est bon :

404

4	10	8	5
---	----	---	---



DEFI MATHS
EXPRESS n° 46

Suite de nombres :

17-23-30-38-?



DEFI MATHS
EXPRESS n° 47

Nombre mystère :

ABCD

A est le chiffre des unités de 582.

B est le chiffre des dizaines de 954.

C est le chiffre des centaines de 871.

D est le chiffre des unités de 423.



DEFI MATHS
EXPRESS n° 48

Tangram :





DEFI MATHS
EXPRESS n° 49

Le compte est bon :

325

4	10	8	5
---	----	---	---



DEFI MATHS
EXPRESS n° 50

Suite de nombres :

6-15-23-30-36-?



DEFI MATHS
EXPRESS n° 51

Nombre mystère :

ABCD

A est le chiffre des unités de 541.

B est le chiffre des dizaines de 967.

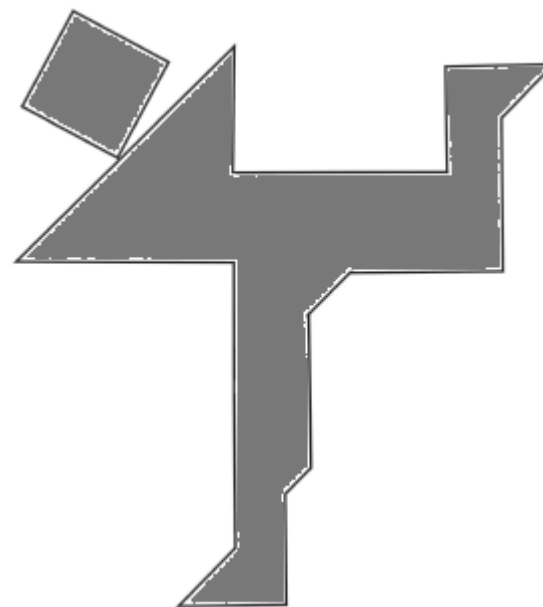
C est le chiffre des centaines de 305.

D est le chiffre des unités de 654.



DEFI MATHS
EXPRESS n° 52

Tangram :





DEFI MATHS
EXPRESS n° 53

Le compte est bon :

361

4	10	9	1
---	----	---	---



DEFI MATHS
EXPRESS n° 54

Suite de nombres :

166-88-44-22-?



DEFI MATHS
EXPRESS n° 55

Nombre mystère :

*Quel est le quintuple du
double de 3 ?*



DEFI MATHS
EXPRESS n° 56

Tangram :





DEFI MATHS
EXPRESS n° 57

Le compte est bon :

230

2	10	7	3
---	----	---	---



DEFI MATHS
EXPRESS n° 58

Suite de nombres :

2-13-24-35-46-?



DEFI MATHS
EXPRESS n° 59

Nombre mystère :

*Quel est le dixième du
triple de 100?*



DEFI MATHS
EXPRESS n° 60

Tangram :





DEFI MATHS
EXPRESS n° 61

Le compte est bon :

78

2 8 7 5



DEFI MATHS
EXPRESS n° 62

Suite de nombres :

$1/2 - 2/4 - 3/6 -$

$4/8 - ?$



DEFI MATHS
EXPRESS n° 63

Nombre mystère :

*Quel est le quintuple du
double de 3 ?*



DEFI MATHS
EXPRESS n° 64

Tangram :





DEFI MATHS
EXPRESS n° 65

Le compte est bon :

36

2	8	7	2
---	---	---	---



DEFI MATHS
EXPRESS n° 66

Suite de nombres :

0/2-2/4-4/8-

6/12- ?



DEFI MATHS
EXPRESS n° 67

Nombre mystère :

*Quel est le quart du produit
de 2 et de 8 ?*



DEFI MATHS
EXPRESS n° 68

Tangram :





DEFI MATHS
EXPRESS n° 69

Le compte est bon :

300

3	10	6	8
---	----	---	---



DEFI MATHS
EXPRESS n° 70

Suite de nombres :

1/12-2/11-

3/10-4/9-5/8- ?



DEFI MATHS
EXPRESS n° 71

Nombre mystère :

ABCD

A est le chiffre des unités de 375.

B est le chiffre des dizaines de 501.

C est le chiffre des centaines de 657.

D est la moitié de C.



DEFI MATHS
EXPRESS n° 72

Tangram :





DEFI MATHS
EXPRESS n° 73

Le compte est bon :

247

3	10	7	8
---	----	---	---



DEFI MATHS
EXPRESS n° 74

Suite de nombres :

9/3-8/6-7/9-

6/12-5/15- ?



DEFI MATHS
EXPRESS n° 75

Nombre mystère :

ABCD

A est le chiffre des unités de 371.

B est le double de A

C est le chiffre des centaines de 942.

D est le tiers de C.



DEFI MATHS
EXPRESS n° 76

Tangram :





DEFI MATHS
EXPRESS n° 77

Le compte est bon :

45

9	9	9	2
---	---	---	---



DEFI MATHS
EXPRESS n° 78

Suite de nombres :

4-9-6-12-8-15-
10-18-?



DEFI MATHS
EXPRESS n° 79

Nombre mystère :

ABCD

A est le chiffre des dixièmes de 45,85.

B est la moitié de A

C est le chiffre des centièmes de 26,31.

D est le quintuple de C.



DEFI MATHS
EXPRESS n° 80

Tangram :





DEFI MATHS
EXPRESS n° 81

Le compte est bon :

25

6	8	2	7
---	---	---	---



DEFI MATHS
EXPRESS n° 82

Suite de nombres :

1-4-2-8-4-16-8-

?



DEFI MATHS
EXPRESS n° 83

Nombre mystère :

ABCD

A est le chiffre des dixièmes de 39,67.

B est le tiers de A

C est le chiffre des centièmes de 28,64

D est le double de C.



DEFI MATHS
EXPRESS n° 84

Tangram :





DEFI MATHS
EXPRESS n° 85

Le compte est bon :

15

8	2	2	4
---	---	---	---



DEFI MATHS
EXPRESS n° 86

Suite de nombres :

1-1-2-6-24-?



DEFI MATHS
EXPRESS n° 87

Nombre mystère :

ABCD

A est le chiffre des centièmes de 41,64.

B est le double de A

C est le chiffre des centièmes de 28,62

D est le triple de C.



DEFI MATHS
EXPRESS n° 88

Tangram :





DEFI MATHS
EXPRESS n° 89

Le compte est bon :

20

15	9	3	5
----	---	---	---



DEFI MATHS
EXPRESS n° 90

Suite de nombres :

1,2-2,4-3,6-4,8-

?



DEFI MATHS
EXPRESS n° 91

Nombre mystère :

ABCD

A est le double de D

B est le double de A


C est le double de B

D est le chiffre des unités de 21.



DEFI MATHS
EXPRESS n° 92

Tangram :





DEFI MATHS
EXPRESS n° 93

Le compte est bon :

42

6	3	3	5
---	---	---	---



DEFI MATHS
EXPRESS n° 94

Suite de nombres :

1,3-2,6-3,9-4,12-

?



DEFI MATHS
EXPRESS n° 95

Nombre mystère :

ABCD

A est le double de D

B est la moitié de A


C est la moitié de B

D est le chiffre des unités de 32.



DEFI MATHS
EXPRESS n° 96

Tangram :





DEFI MATHS
EXPRESS n° 97

Le compte est bon :

40

4	3	3	4
---	---	---	---



DEFI MATHS
EXPRESS n° 98

Suite de nombres :

2,1-4,3-6,5-8,7-?



DEFI MATHS
EXPRESS n° 99

Nombre mystère :

ABCD

A est le chiffre des dizaines de 15,69

B est le triple de A


C est le double de D

D est le chiffre des centièmes de 24,63



DEFI MATHS
EXPRESS n° 100

Tangram :



Téléchargé sur : www.laclassedemallory.com