


# Partages et groupements

Ma classe à la maison



Ma classe à la maison – Regarde cette vidéo

**Division : partage et regroupement**



J'ai compris ! J'applique

**Partie 1** 00:00 - 2:20 - Que signifie faire un partage équitable ? Entoure la bonne réponse.

certains en auront plus - tout le monde aura la même quantité - certains en auront moins

Dessine les sucettes et partage-les équitablement entre les 4 enfants.


**Partie 2** 2:20 - 2:44 - Découpe et partage ces 11 pommes entre ces trois saladiers.

Combien de pommes reste-il ?



**Partie 3** 2:45 - 4:42 - Observe les objets et fais des groupes comme demandé.

Fais des groupes de 3	Fais des groupes de 5	Fais des groupes de 7
il y a ___ groupes de ___	il y a ___ groupes de ___	il y a ___ groupes de ___

## Je m'entraîne

### 1 Dessine pour représenter le partage des objets demandés.

Partage 15 fleurs entre 5 enfants	Pierre	Julie	Paul	Antoine	Maria
-----------------------------------	--------	-------	------	---------	-------



Partage 24 cerceaux entre 6 enfants	Simon	Youssef	Amandine	Ivana	Sofia	Arnaud
-------------------------------------	-------	---------	----------	-------	-------	--------

### 2 Résous les problèmes de partage en faisant une multiplication à trous

- On partage 24 tomates à 3 enfants  $\quad \times 8 = 24$  Chaque enfant aura  $\quad$  tomates.
- On partage 50 euros à 5 adultes  $\quad \times 5 = 50$  Chaque adulte aura  $\quad$  euros.
- On partage 27 craies à 9 élèves  $\quad \times 9 = 27$  Chaque élève aura  $\quad$  craies.
- On partage 36 colliers à 6 enfants  $\quad \times 6 = 36$  Chaque enfant aura  $\quad$  colliers.

### 3 Partage équitablement puis compte le reste et écrit l'opération correspondante.

Exemple : si on partage 29 crayons entre 7 enfants, on en donne 4 à chacun et il en reste 1, on écrit  $(7 \times 4) + 1 = 29$

Partage 25 gâteaux entre 8 enfants	Partage 27 ballons entre 5 enfants
	
On donne $\quad$ gâteaux à chacun et il en reste $\quad$ $(\quad \times 8) + \quad = 25$	On donne $\quad$ ballons à chacun et il en reste $\quad$ $(\quad \times 5) + \quad = 27$

### 4 Résous le problème suivant :

Edouard doit partager 30 billes entre 6 enfants. Combien de billes doit-il donner à chacun des enfants ? \_\_\_\_\_

Un des enfants décide finalement de ne pas prendre les billes, Edouard doit donc refaire le partage. Combien de billes aura chacun des enfants après ce nouveau partage ? \_\_\_\_\_