

CM1

CM2

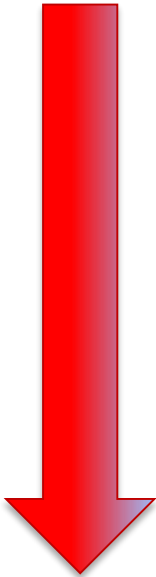
Quelle heure est-il ?

1.



?

+ 15 minutes



2.



?

CM1

CM2

Quelle heure est-il ?

1.

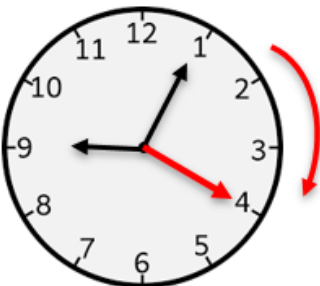


9H05 ou 21H05

+ 15 minutes



2.



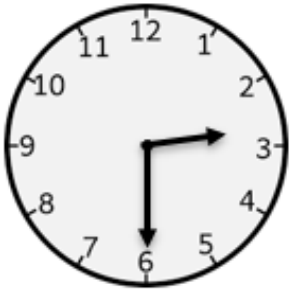
9H20 ou 21H20

CM1

CM2

Quelle heure est-il ?

1.



?

+ 15 minutes



2.



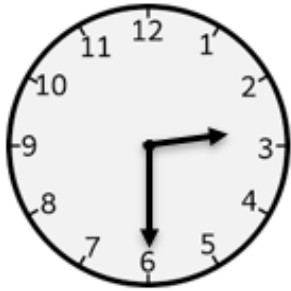
?

CM1

CM2

Quelle heure est-il ?

1.



2H30 ou 14H30

+ 15 minutes



2.



2H45 ou 14H45

CM1

CM2

Quelle heure est-il ?

1.



?

+ 15 minutes



2.



?

CM1

CM2

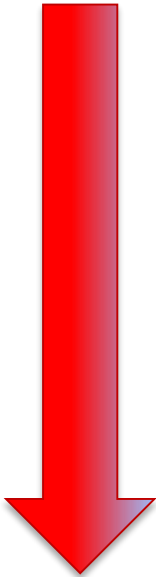
Quelle heure est-il ?

1.



7H40 ou 19H40

+ 15 minutes



2.



7H55 ou 19H55

CM1

CM2

Quelle heure est-il ?

1.



?

+ 15 minutes

2.



?

CM1

CM2

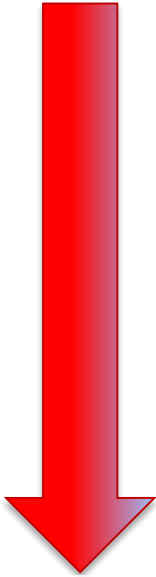
Quelle heure est-il ?

1.



3H25 ou 15H25

+ 15 minutes



2.



3H40 ou 15H40



CM1

CM2

Quelle heure est-il ?

1.



?

+ 15 minutes

2.



?

CM1

CM2

Quelle heure est-il ?

1.



5H50 ou 17H50

+ 15 minutes



2.



6H05 ou 18H05

CM1

CM2

Quelle heure est-il ?

1.



?

+ 10 minutes

2.



?

CM1

CM2

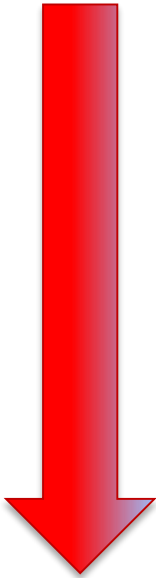
Quelle heure est-il ?

1.



11H05 ou 23H05

+ 10 minutes



2.




11H15 ou 23H15

CM1

CM2

Quelle heure est-il ?

1.



?

+ 10 minutes

2.




?

CM1

CM2

Quelle heure est-il ?

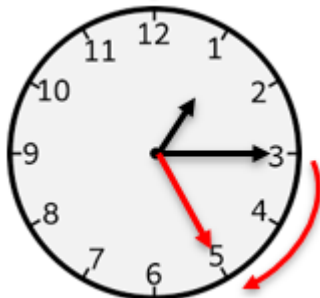
1.



1H15 ou 13H15

+ 10 minutes

2.



1H25 ou 13H25

CM1

CM2

Quelle heure est-il ?

1.



?

+ 10 minutes



2.




?

CM1

CM2

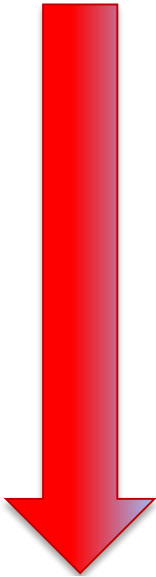
Quelle heure est-il ?

1.



8H20 ou 20H20

+ 10 minutes



2.



8H30 ou 20H30




CM1

CM2

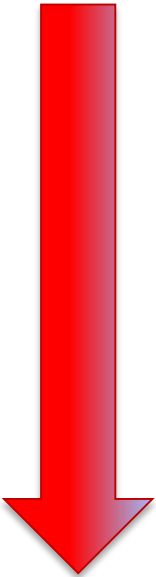
Quelle heure est-il ?

1.



?

+ 10 minutes



2.




?

CM1

CM2

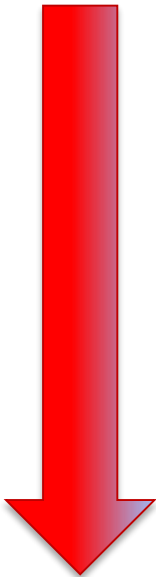
Quelle heure est-il ?

1.



0H00 ou 12H00

+ 10 minutes



2.




0H10 ou 12H10

CM1

CM2

Quelle heure est-il ?

1.



?

+ 10 minutes



2.




?

CM1

CM2

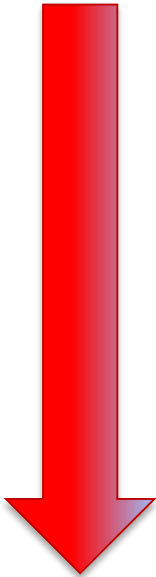
Quelle heure est-il ?

1.

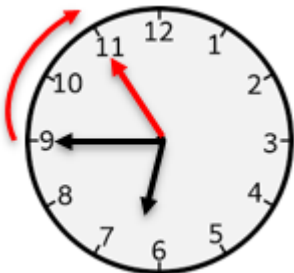


6H45 ou 18H45

+ 10 minutes



2.



6H55 ou 18H55

CM1

CM2

Quelle heure est-il ?

1.



?

+ 5 minutes



2.



?

CM1

CM2

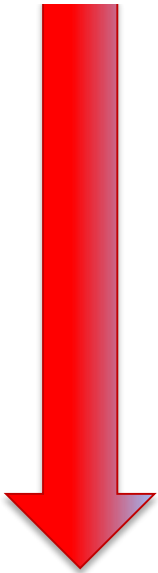
Quelle heure est-il ?

1.



2H20 ou 14H20

+ 5 minutes



2.




2H25 ou 14H25

CM1

CM2

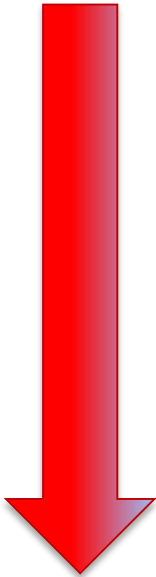
Quelle heure est-il ?

1.



?

+ 5 minutes



2.




?

CM1

CM2

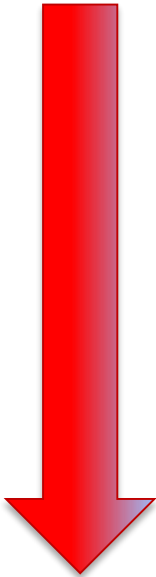
Quelle heure est-il ?

1.



4H35 ou 16H35

+ 5 minutes



2.



4H40 ou 16H40




CM1

CM2

Quelle heure est-il ?

1.



?

+ 5 minutes

2.



?

CM1

CM2

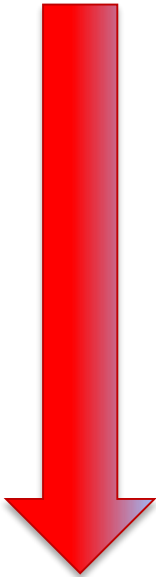
Quelle heure est-il ?

1.



10H10 ou 22H10

+ 5 minutes



2.



10H15 ou 22H15

CM1

CM2

Quelle heure est-il ?

1.



?

+ 5 minutes

2.



?

CM1

CM2

Quelle heure est-il ?

1.



10H50 ou 22H50

+ 5 minutes



2.



10H55 ou 22H55

CM1

CM2

Quelle heure est-il ?

1.



?

+ 5 minutes

2.




?

CM1

CM2

Quelle heure est-il ?

1.



7H30 ou 19H30

+ 5 minutes



2.




7H35 ou 19H35

CM1

CM2

Quelle heure est-il ?

1.



?

+ 20 minutes

2.




?

CM1

CM2

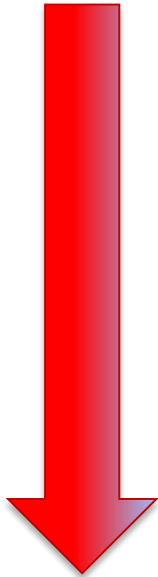
Quelle heure est-il ?

1.



2H05 ou 14H05

+ 20 minutes



2.



2H25 ou 14H25




CM1

CM2

Quelle heure est-il ?

1.



?

+ 20 minutes

2.




?

CM1

CM2

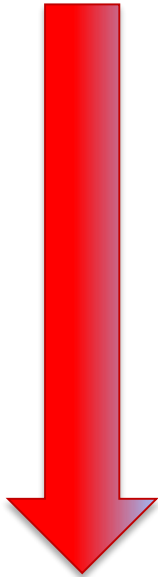
Quelle heure est-il ?

1.



9H20 ou 21H20

+ 20 minutes



2.



9H40 ou 21H40

CM1

CM2

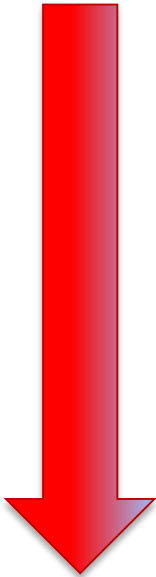
Quelle heure est-il ?

1.



?

+ 25 minutes



2.



?

CM1

CM2

Quelle heure est-il ?

1.



8H25 ou 20H25

+ 25 minutes

2.



8H50 ou 20H50

CM1

CM2

Quelle heure est-il ?

1.



?

+ 25 minutes



2.



?

CM1

CM2

Quelle heure est-il ?

1.



4H15 ou 16H15

+ 25 minutes

2.



4H40 ou 16H40

CM1

CM2

Quelle heure est-il ?

1.



?

+ 25 minutes



2.



?

CM1

CM2

Quelle heure est-il ?

1.



10H50 ou 22H50

+ 25 minutes

2.



11H15 ou 23H15