


Longueurs égales - Points alignés

DICO
67

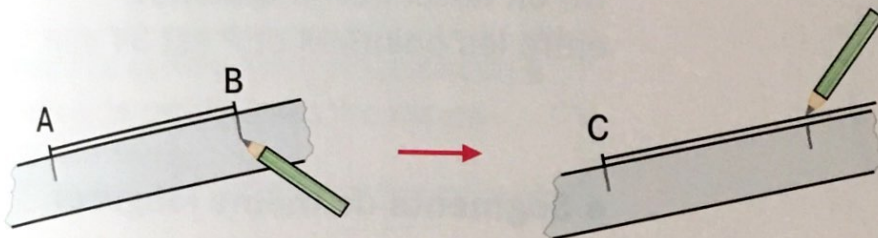
Construire un segment de même longueur qu'un autre

- Avec une règle graduée



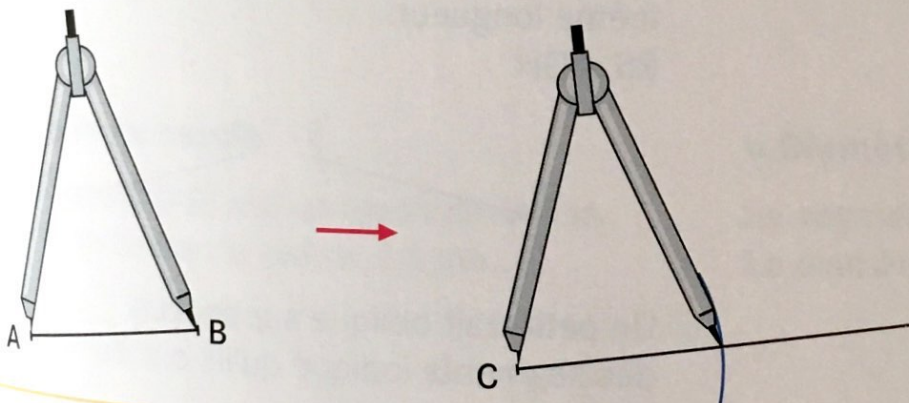
Mesure la longueur du segment $[AB]$.
Reporte cette longueur sur la demi-droite à partir du point C.

- Avec un gabarit, construit dans une bande de papier



Reporte sur la bande la longueur du segment $[AB]$.
Reporte cette longueur sur la demi-droite à partir du point C.

- Avec un compas



Avec le compas, prends un écartement égal à la longueur du segment $[AB]$.
Trace un arc de cercle de centre C, qui coupe la demi-droite.