

1) **Ecris la réponse à ce problème :**

Mon cartable vide pèse 1kg.

Quand toutes mes fournitures sont dedans, il pèse 18Kg.

Combien pèsent mes fournitures scolaires ?

12) **Ecris en chiffres :**

vingt-mille-dix

2) **Ecris la réponse à ce problème :**

J'ai acheté une boîte de 100 chocolats. J'en ai déjà mangé 40.

Combien reste-t-il de chocolats dans la boîte ?


13) **Ecris en chiffres :**

quatre-vingt-mille-cent-deux

3) **Ecris la réponse à ce problème :**

Je cueille 3 fleurs roses dans mon jardin. Combien dois-je encore cueillir de fleurs pour faire un bouquet de 15 fleurs ?

14) **Ecris la fraction correspondant à la partie en gris :**



4) **Réponds par « plus » ou par « moins » :**

Le directeur reçoit 88 cahiers. Il a maintenant 292 cahiers en réserve.

En avait-il plus ou moins de 200 avant la livraison ?

15) **Ecris la fraction correspondant à la partie en gris**



5) Réponds par « oui » ou par « non »

J'ai 50€ dans mon porte-monnaie.  
Si je dépense 27 € de livres, est-ce que je peux encore acheter un agenda à 18€ ?

16) Réponds à la question :

Combien de sommets a un triangle ?

6) Ecris la réponse :

100 est le double de ...

17) Réponds à la question :

Combien y a-t-il de millimètres dans 1 centimètre ?

7) Ecris la réponse :

100 est le quadruple de ....

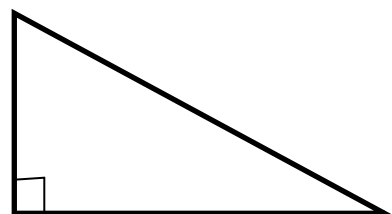
18) Réponds à la question :

Combien y a-t-il de mètres dans 2 kilomètres ?

8) Ecris la réponse :

20 est le quart de ...

19) Quel est le nom de cette figure géométrique ?



9) Ecris le mot qui manque :

10 est le ..... de 5

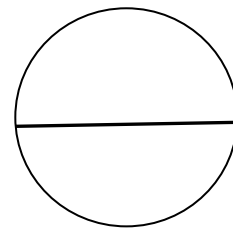
20) Réponds à la question :

Comment appelle-t-on un polygone qui a 4 côtés ?

10) Ecris en chiffres :

trois-mille-six-cent-cinquante-quatre

21) Comment se nomme le trait dans le cercle ?



11) Ecris en chiffres :


deux-cent-trente-quatre-mille-six-cent

22) Complète en utilisant le signe > ou le signe <

12 435 ..... 31 421



Rentrée 2015  
Sprint des connaissances de maths  
Les réponses de .....



n°	Réponse	Score
1		
2		
3		
4		
5		
6		
7		
8		
9		
10		
11		
12		
13		
14		
15		
16		
17		
18		
19		
20		
21		
22		
Score total sur 22		