

Nom :

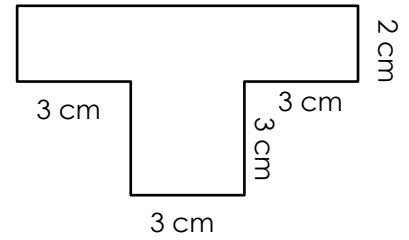
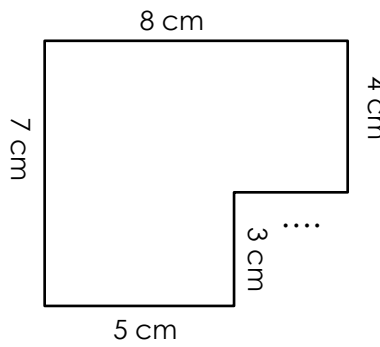
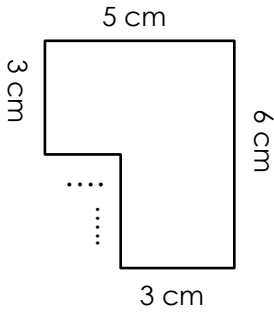
Date :

- Savoir calculer le périmètre d'un polygone quelconque.
- Connaître les formules pour calculer les périmètres du carré et du rectangle.

Exercices

Le périmètre des polygones, du carré et du rectangle

4 Trouve les données manquantes et calcule le périmètre des figures suivantes.

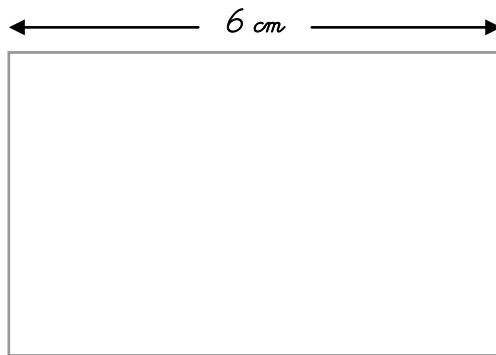
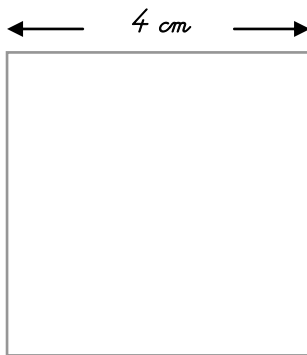


P = =

P = =

P = =

5 Calcule le périmètre de ces figures. Utilise les formules.



P =
P =

P =
P =

P =
P =

6 Complète les tableaux suivants.

Carré	
Côté	périmètre
16 m
.....	24m
25cm
.....	36 cm

Rectangle		
longueur	largeur	périmètre
.....	25 m	120 m
15 cm	70 cm
50 m	12 m
30 cm	80 cm