

Nom :

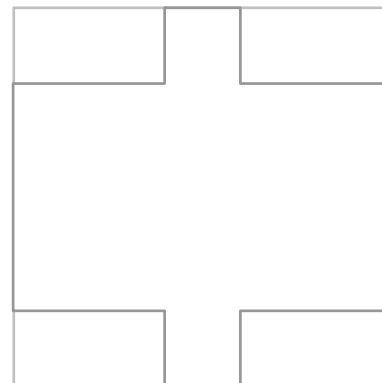
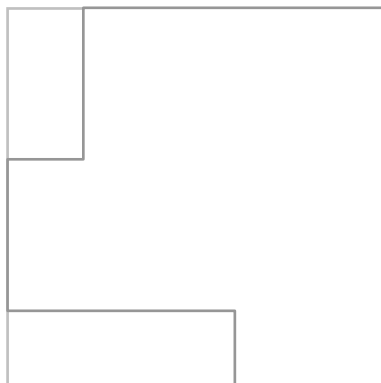
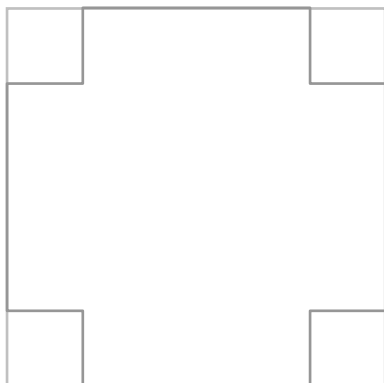
Date :

- Savoir calculer le périmètre d'un polygone quelconque.
- Connaître les formules pour calculer les périmètres du carré et du rectangle.

Exercices

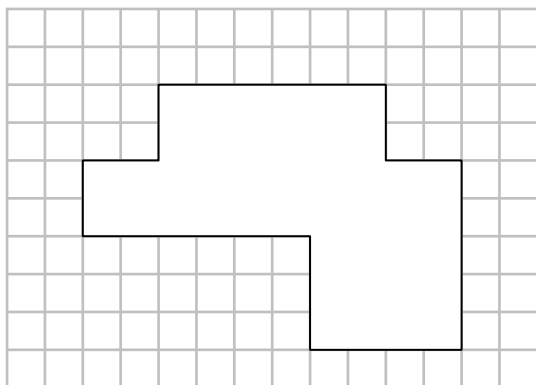
Le périmètre des polygones, du carré et du rectangle

1 Calcule le périmètre de chaque polygone. Que remarques-tu ?

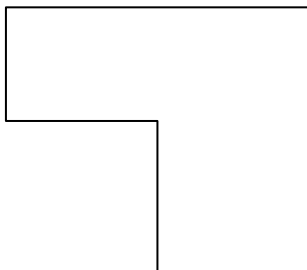


.....

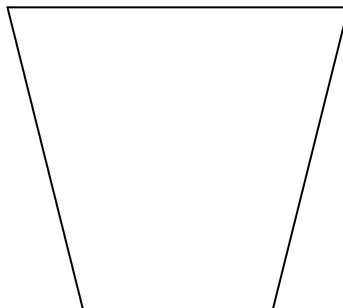
2 A partir de cette figure, dessine un polygone de périmètre égal.



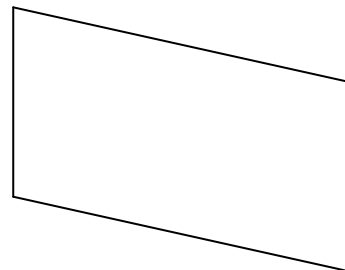
3 A l'aide de ta règle, calcule le périmètre des figures suivantes:



P =



P =



P =