

Corrigés – mardi 16/03

CE1

Grammaire

Le loup dévore le mouton.

La grosse pomme est mûre.

Théo ressemble à son frère.

Julie boit du jus de poire.

Comment vérifier ? En se souvenant que les noms désignent des objets, des personnes (Théo, Julie, frère), des lieux, des animaux (loup, mouton), des choses (jus, poire, pomme).

Je m'entraîne

① Complète les phrases avec le pronom personnel qui convient.

.....**J'**..... ai mal à la tête.

.Tu..... as une jolie robe.

.....**Je**..... suis souvent malade.

Nous..... avons un exercice à faire.

Il / Elle / On est en retard.

Vous..... êtes en retard.

Nous.. sommes en vacances.

Il / Elle / On... a huit ans.

Vous..... avez sûrement raison.

.Tu..... es trop bavard.

Ils ou Elles ont une grande maison.

② Complète les phrases en conjuguant le verbe écrit entre parenthèses.

Nous**sommes**..... (être) amis avec les voisins.

Ils**sont**..... (être) charmants.

Ils**ont**..... (avoir) un petit chien.

Il**a**..... (avoir) toujours faim.

Il**est**..... (être) très gourmand.

Nous**avons**..... (avoir) une nouvelle maîtresse.

③ Complète avec a / as / es / est.




Mon grand-père **est**.. fatigué. Il **est**.. très âgé. Il **a**.. mal au dos.

Tu **es**.. en bonne santé. Tu **as**.. bonne mine.




Ma sœur **a**.. les yeux bleus. Elle **a**.. des nattes. Elle **est**.. jolie.

Tu **as**.. les mains sales.

④ Relie d'un trait le sujet et le verbe qui correspondent.

Elle  as
Vous  a
Tu  avez

peur.

Tu  sont
Mes parents  est
Mon frère  es

en retard.

Problème quotidien

Une tablette de chocolat coûte 3 €. Madame Benoît achète 4 tablettes. Combien doit-elle payer ?

$$3 + 3 + 3 + 3 = 12$$

Ou

$$4 \times 3 = 12$$

Madame Benoît doit payer 12 €.

CE2

Grammaire

L'aigle royal chasse les marmottes et les lapins. Pour survivre, ces animaux se cachent dans des terriers et regardent le ciel.

Note : si vous n'avez pas souligné le verbe à l'infinitif « survivre », ce n'est pas grave, je n'avais pas précisé dans la consigne si je souhaitais uniquement les verbes conjugués ou tous les verbes.

On remarque ici que les verbes « se cachent » et « regardent » ont le même sujet 😊

Calculs

$$7\,456 - 3\,789 = 3\,667$$

$$84 \times 13 = 1\,092$$

$$45 \times 66 = 2\,970$$

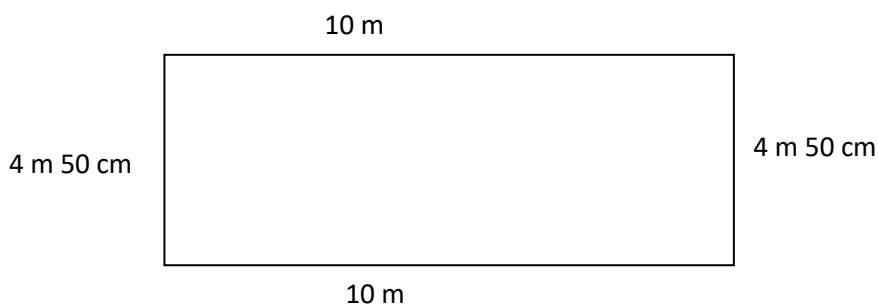
Grandeurs et mesures

1) Alors, n'ayant pas d'imprimante, il va m'être un peu difficile de corriger cet exercice où il fallait bien sûr mesurer les côtés. Donc je vous rappelle simplement la méthode :

- Je mesure les côtés avec ma règle, et je les écris au crayon à papier.
- Je convertis si besoin dans la même unité (je mets tout en cm, ou tout en mm).
- J'additionne les longueurs de chaque côté. Dans mon calcul, j'indique bien les unités, sinon ça n'a plus de sens.

2) La piscine de la ville mesure 10 m de longueur et 4 m 50 cm de largeur. Elle a la forme d'un rectangle. Quel est le périmètre de cette piscine ?

Si nous faisons un schéma, cela donnerait :



Je convertis :

$$4 \text{ m } 50 \text{ cm} = 450 \text{ cm}$$

$$10 \text{ m} = 1\,000 \text{ cm}$$

Je calcule le périmètre :

$$P = 1\,000 \text{ cm} + 1\,000 \text{ cm} + 450 \text{ cm} + 450 \text{ cm}$$

$$P = 2\,900 \text{ cm}$$

Le périmètre de la piscine mesure 2 900 cm ou 29 m.