









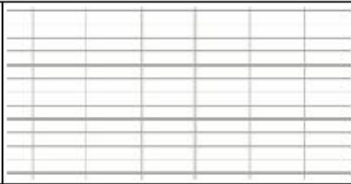




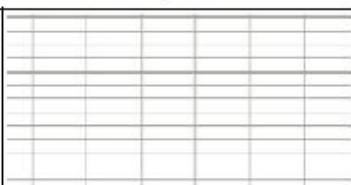






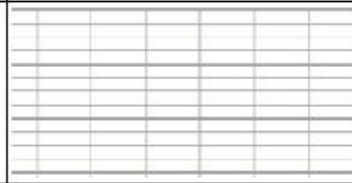









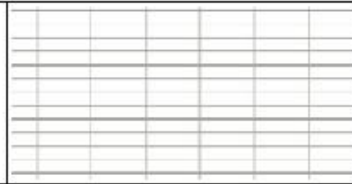




Mes p'tits problèmes hebdomadaires

CE1 – fiche n° 11

1	4 enfants se partagent équitablement 15 images. <i>Combien d'images aura chaque enfant ?</i>		   
2	Depuis 4 ans, Céline collectionne les fèves. Elle en a 21. Vincent a seulement 17 fèves. <i>Combien Céline a-t-elle de fèves de plus que Vincent ?</i>		   
3	12 équipes de 10 enfants participent à un tournoi de base-ball. <i>Combien d'enfants participent à ce tournoi ?</i>		   
4	Un boulanger a fabriqué 32 croissants. A 10 heures du matin, il a déjà vendu 28 croissants. <i>Combien de croissants y a-t-il encore dans sa boulangerie ?</i>		   

Mes p'tits problèmes hebdomadaires

CE1 – fiche n° 12

1	Louis a 10 chewing-gums. 3 de ces chewing-gums sont carrés et les autres sont ronds. <i>Combien Louis a-t-il de chewing-gums ronds ?</i>		   
2	A la pâtisserie, Saïda a acheté 3 paquets de 12 macarons. <i>Combien Saïda a-t-elle acheté de macarons ?</i>		   
3	3 maitresses se partagent 20 stylos en parts égales. <i>Combien de stylos aura chaque maitresse ?</i>		   
4	Léa a 17 billets de 10 euros et 6 pièces de 1 euro. <i>Combien Léa a-t-elle en tout ?</i>	