

# Corrigés – jeudi 30/04

## CE1

### Phonologie

1) La bouche, un bras, une jambe, deux jambes. On pouvait accepter une barbe également.

2) a – Ma tante est enceinte, elle va avoir un **bébé**.

B – Les oiseaux n'ont pas de lèvres, ils ont un **bec**.

C – En automne, les **arbres** perdent leurs feuilles.

D – Au bord de la mer, on peut faire des châteaux de **sable**.

3) Un bateau – un ballon – une robe

4) tableau – sable – bouche – bateau - table – boule

### Grammaire

Tu casses la voiture de papa.

Les élèves récitent la poésie.

Le policier part à Paris.

La pluie tombe sur les vitres.

**Comment vérifier ?** En se souvenant que les déterminants sont des petits mots qui accompagnent les noms et déterminent leur genre (masculin ou féminin) et leur nombre (singulier ou pluriel).

**Consigne :** choisis parmi la liste le bon adjectif pour compléter chaque nom. Attention aux accords.

des cafés noirs

un vélo neuf

ta robe neuve

des chaussettes noires

un gâteau délicieux

des garçons attentifs

des filles attentives

## Problème quotidien

Alex joue au jeu de l'oie. Il avait de 12 cases et arrive sur la case 21.  
Sur quelle case était-il avant d'avancer ?

Je calcule :

$$21 - 12 = 9$$

Alex était sur la case 9 avant d'avancer.

## Calculs

$$5 \times 42 = (5 \times 40) + (5 \times 2)$$

$$5 \times 42 = 200 + 10$$

$$5 \times 42 = 210$$

$$4 \times 37 = (4 \times 30) + (4 \times 7)$$

$$4 \times 37 = 120 + 28$$

$$4 \times 37 = 148$$


$$2 \times 18 = (2 \times 10) + (2 \times 8)$$

$$2 \times 18 = 20 + 16$$


$$2 \times 18 = 36$$

# Géométrie

1 Entoure les objets qui sont des pavés droits.



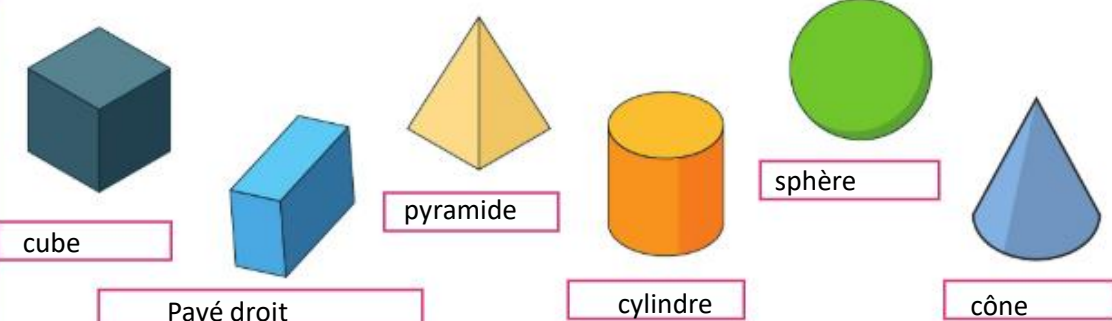
2 Entoure les objets qui sont des cubes.



3 Colorie le cube en rouge, le pavé droit en jaune, le cylindre en bleu, le cône en orange, la pyramide en vert et la boule en violet.



4 Écris le nom de chacun de ces solides.



## CE2

### Grammaire

Les petits cochons fabriquent leurs maisons. Le grand méchant loup soufflera sur la petite maison.

**Consigne** : choisis parmi la liste le bon adjectif pour compléter chaque nom. Attention aux accords.

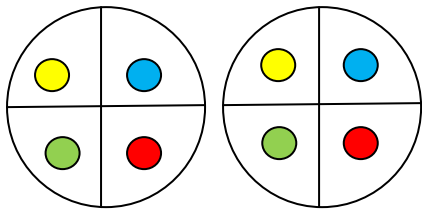
des cafés noirs  
un vélo neuf  
ta robe neuve  
des chaussettes noires  
un gâteau délicieux  
des garçons attentifs  
des filles attentives

### Problème quotidien

4 copains se partagent équitablement 2 gâteaux.

Quelle sera la part de chacun ?

Je peux réaliser un schéma :



Sur mon schéma, j'ai symbolisé les parts prises par les garçons par des couleurs. Comme ils sont 4, je vois grâce à mon schéma que chacun pourra avoir une part de chaque gâteau, donc 2 parts en tout.

Chaque copain aura donc 2 parts de gâteau.

## Calculs

$$49 \times 68 = 3\,332$$

$$127 \times 635 = 80\,645$$

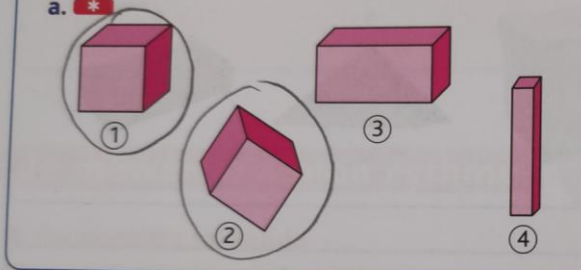
$$7\,895 - 3\,654 = 4\,241$$

## Géométrie

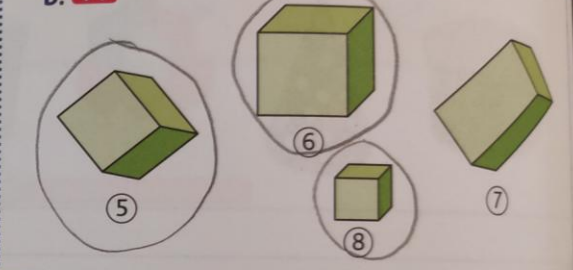
Pour votre frise géométrique, si vous avez un doute, vous pouvez la prendre en photo et me l'envoyer pour que je la regarde et vous corrige au besoin.

**1 Entoure les cubes.**

a. \*

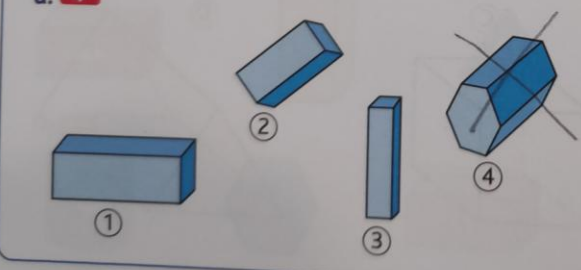


b. \*\*



**2 Barre l'intrus.**

a. \*



b. \*\*

