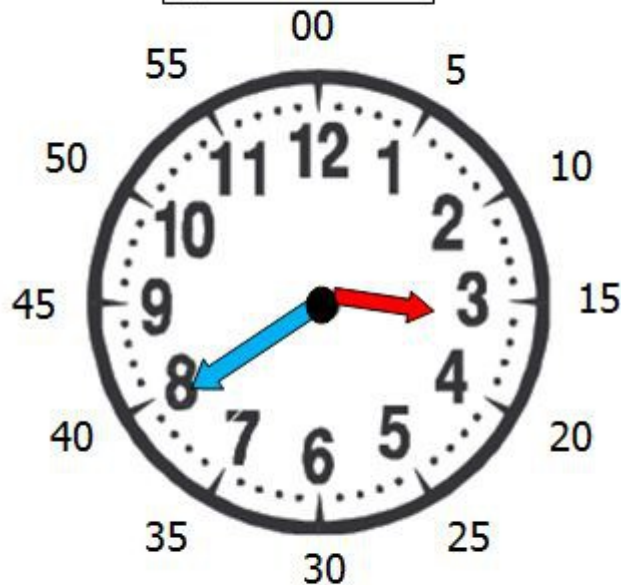


Lire l'heure

LUNDI MARDI MERCREDI JEUDI VENDREDI SAMEDI DIMANCHE

Je sais lire l'heure exacte.



→ La petite aiguille indique les heures.

→ La grande aiguille indique les minutes.

Il est 3h40 à l'horloge

Regarde et écoute bien la vidéo :

<https://www.youtube.com/watch?v=qt40aGoB3iY>

Maintenant, à toi de jouer !

RAPPEL :

Midi, c'est 12h.

Pour lire l'heure de l'après-midi, c'est après 12h , donc on rajoute 12 !

1 h de l'après-midi, c'est $12+1=13$, c'est 13h.

3h de l'après-midi, c'est $12+3=15$, c'est 15h.

5 h de l'après-midi, c'est $12+5=17$, c'est 17h.

Nom :

Date :

- Reconnaître, lire et indiquer les heures, quarts d'heures et les demi-heures.
- Connaitre la relation entre les heures et les minutes.

Exercices

Lire l'heure

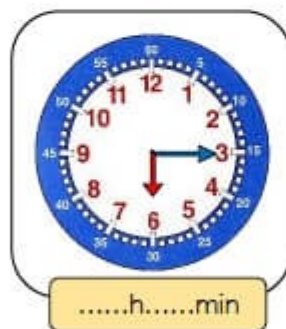
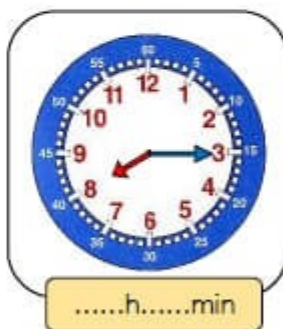
5 Lis l'heure indiquée et place les aiguilles.



6 Indique l'heure. C'est le matin.



7 Indique l'heure. C'est l'après-midi.



Prénom :

Date :

Lire l'heure 1

Lire et Ecrire l'heure

