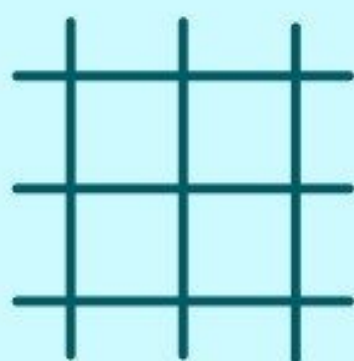


1

Cinq sœurs sont dans  
une pièce : Anna est  
en train de lire,  
Thérèse cuisine,  
Katia joue aux échecs,  
Marie lave du linge.  
Que fait la  
cinquième sœur ?

2

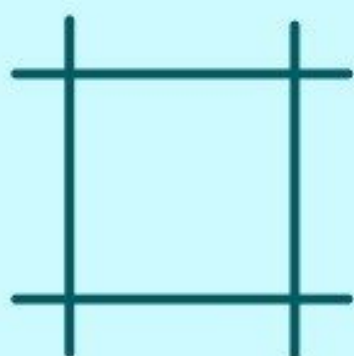
Trouve le chiffre  
manquant.




= 9



= 1



= 

**3**

**Je traverse les  
campagnes et m'arrête  
dans les villes, mais reste  
toujours immobile ;  
qui suis-je ?**

4

Ajouter un trait  
pour équilibrer l'équation.

$$5 + 5 + 5 + 5 = 555$$

PS : tu ne peux pas barrer  
le symbole "=".

5

Quel est le chiffre  
manquant ?

2 3 4

2 3 ?

Indice : ce n'est pas 4.

6

**Tu es devant une  
baignoire remplie d'eau.  
Tu as une cuillère,  
une tasse et un seau.  
Quelle est la façon  
la plus rapide de vider  
la baignoire ?**