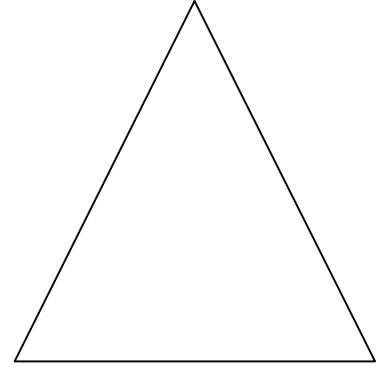




Pour calculer **le périmètre** d'un terrain ou d'un polygone, il faut mesurer tous ses côtés et les additionner.

Calcule le périmètre de ces figures en mm



Pour calculer **le périmètre** d'un terrain ou d'un polygone, il faut mesurer tous ses côtés et les additionner.



le terrain du fermier mesure  
156 mètres de long et 100mètres de large.

Le fermier va au village pour  
acheter du grillage.

Combien de grillage doit-il acheter ?

Question

Opération

Réponse