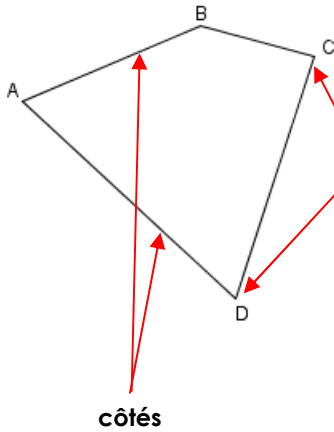




Un polygone est une figure **fermée** composée d'au moins **3 segments de droite**

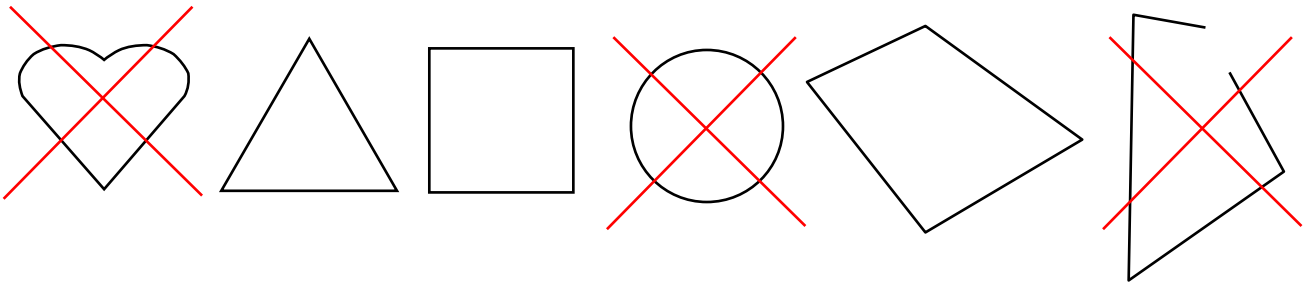
Chaque segment qui compose ce polygone est **un côté**.



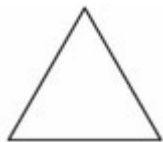
Les sommets d'un polygone sont les extrémités de ses côtés. Un polygone a autant de côtés que de sommets.

Ce polygone possède 4 côtés et 4 sommets

Polygones ou non?



Des polygones particuliers



3 côtés
le triangle



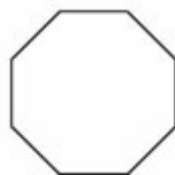
4 côtés
Quadrilatère



5 côtés : le
pentagone



6 côtés
l'hexagone



8 côtés
l'octogone