


PROBLEMES


Fais des paquets pour que chaque enfant ait le même nombre de bandes dessinées.




BD →

nombre de BD par enfant

Chaque enfant aura BD.



Chaque enfant aura BD.



Chaque enfant aura BD.

Léa est au bord de la mer et elle observe des otaries.
Au départ, il y en a 85 sur la plage. Puis 32 otaries vont dans l'eau.
Combien reste-t-il d'otaries sur la plage ?

OP :

PHRASE :

SCHEMA

Une entrée de cinéma coûte 8 € pour un enfant et 12€ pour un adulte.
Combien va coûter une soirée au cinéma pour une famille de 2 adultes et 3 enfants ?

OP :

PHRASE :

SCHEMA

Un poissonnier veut préparer des brochettes de crevettes. Sur chaque brochette, il veut mettre 7 crevettes.
De combien de crevettes aura-t-il besoin pour faire 5 brochettes ?

OP :

PHRASE :

SCHEMA

Les élèves de CE1 ont un élevage dans leur classe. Dans cet élevage, il y a 45 escargots adultes.
Après les naissances, les élèves comptent 67 escargots.
Combien d'escargots sont nés ?

OP :

PHRASE :

SCHEMA

Lili a 40 punaises. Elle veut les ranger par boîtes de 5.
De combien de boîtes a-t-elle besoin ? **Calcule et complète.**



Lili a besoin de boîtes.