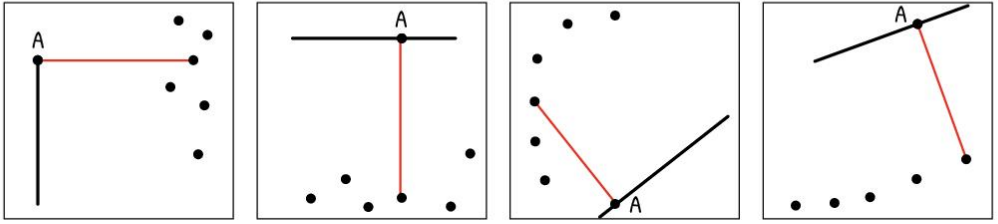
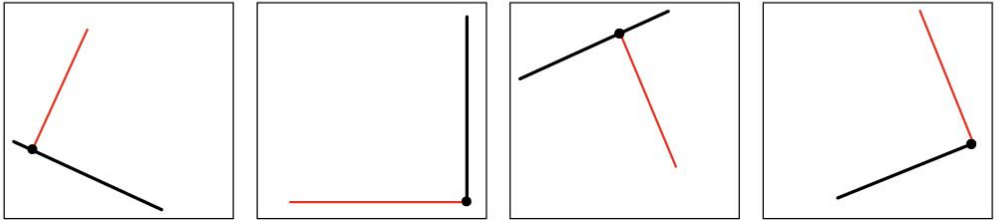


- ⑤ À l'aide de ton équerre, **trouve** à quel point il faut relier le point A pour former un angle droit. **Trace** ce segment.

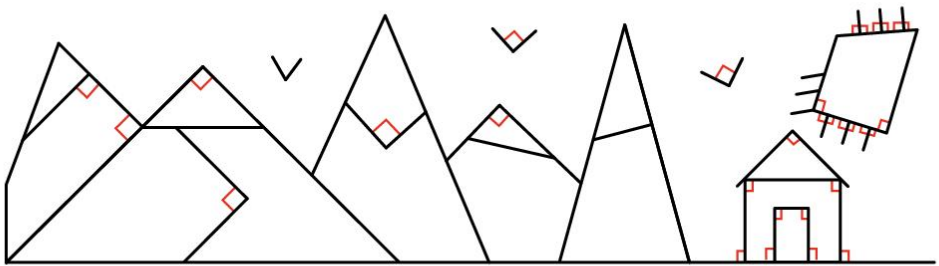


- ⑥ À l'aide de ton équerre, **trace** un angle droit sur chaque point.



## LES MATHS DANS LA VIE

- ⑦ Dans ce tableau d'un paysage montagnard, **repère** tous les angles droits. **Marque-les** en rouge.



## DEFI

- ⑧ **Continue** cette frise en traçant des angles droits avec ton équerre. **Colorie** ensuite ta frise.

