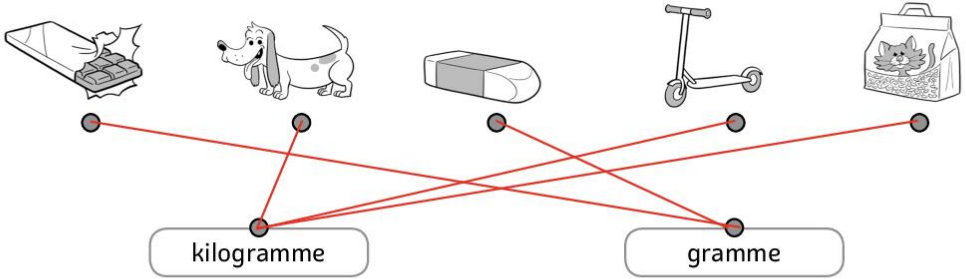





ESTIMER DES MASSES

① Relie les éléments à l'unité dans laquelle on mesure leur masse.

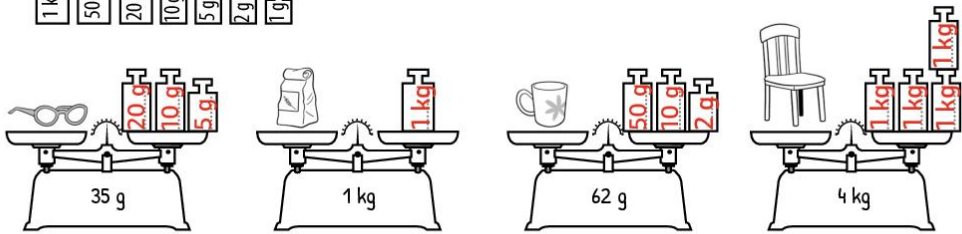


MESURER DES MASSES

② Écris sur la balance la masse de chaque objet dans l'unité demandée.



③ Écris les masses sur les poids pour obtenir le poids inscrit sur la balance.




④ Observe la balance du milieu et calcule la masse qui devrait s'inscrire sur les autres balances.



COMPARER DES MASSES


5 Entoure l'aliment le plus léger des deux et complète les phrases.



La pastèque est plus **lourde** que le melon.

L'abricot est plus **léger** que l'orange.

6 Numérote ces jouets du plus léger (1) au plus lourd (3).



LES MATHS DANS LA VIE

7 Quatre amis décident de se peser et de comparer leur masse. Réponds aux questions.


Qui est le plus lourd ? **Téo**

Qui est le plus léger ? **Maïa**

Qui pèse 20 kilos de plus que Maïa ? **Amir**

Quelle est la différence de poids entre les deux garçons ? **7 kg**

Quelle est la différence de poids entre les deux filles ? **8 kg**



DÉFI

8 Colorie en respectant le code couleur « MONDRIAN ».

- Bleu Animal se mesurant en gramme
- Rouge Animal se mesurant en kilogramme
- Jaune Animal se mesurant dans une autre unité

