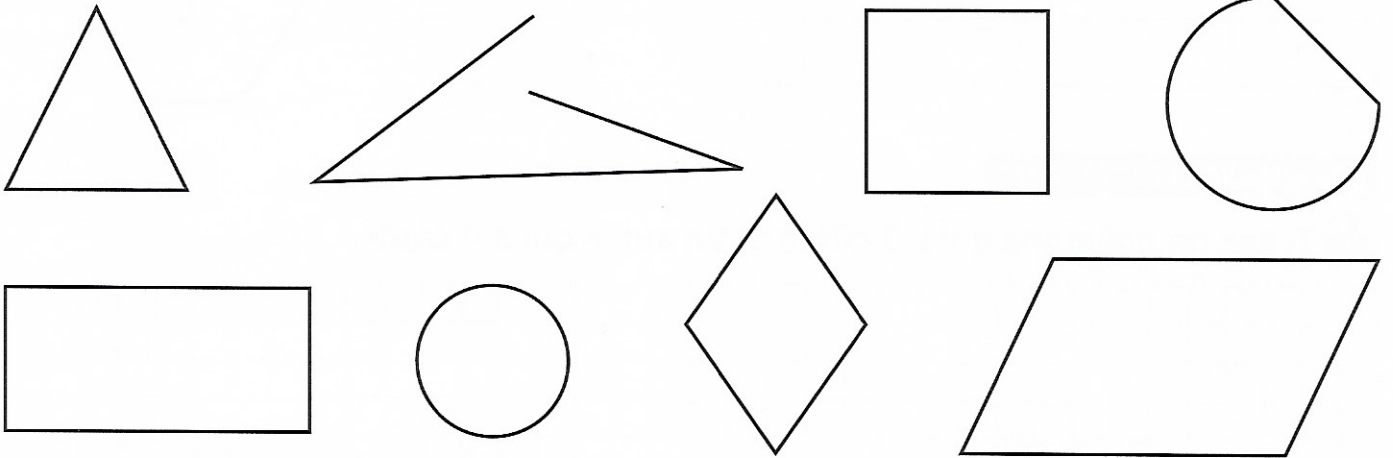




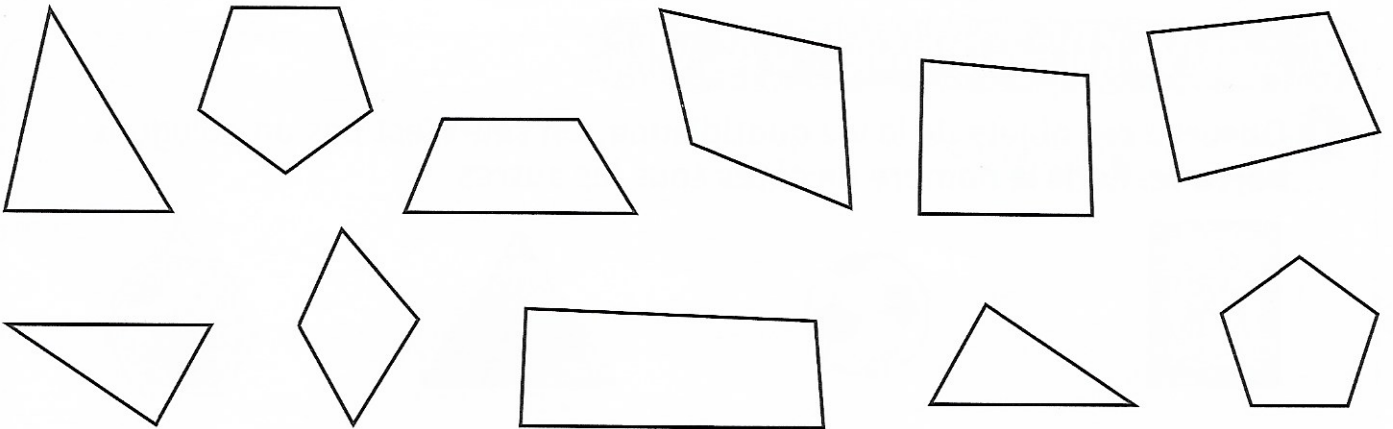
IDENTIFIER DES POLYGONES

① Colorie seulement les polygones.



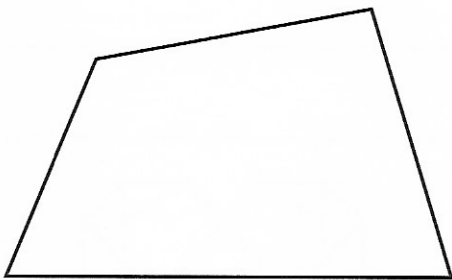
② Colorie les polygones selon le code couleur.

- bleu
- 3 côtés
- rouge
- 4 côtés
- vert
- 5 côtés

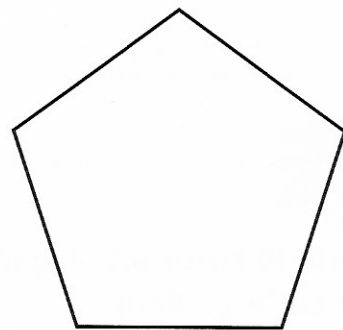


DÉCRIRE UN POLYGONE

③ Décris ces figures en t'aidant des mots suivants : sommets – quadrilatère – pentagone – côtés.



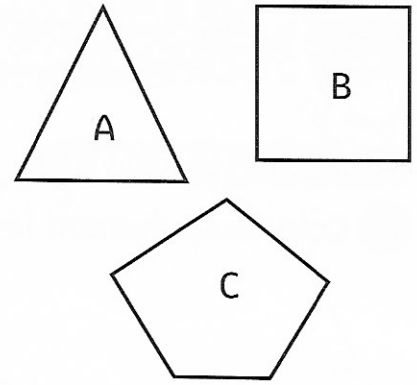
Cette figure est un
 Elle a quatre
 et quatre



Cette figure est un
 Elle a cinq
 et cinq


④ Complète le tableau.

Figures	Nombre de côtés	Nombre de sommets	Nom du polygone



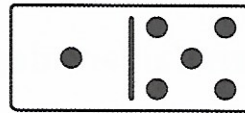
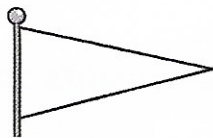



CONSTRUIRE DES POLYGONES

⑤ Trace un polygone qui a 3 côtés et un autre qui a 4 côtés.



LES MATHS DANS LA VIE

⑥ Observe ces objets de la vie quotidienne. Un seul n'est pas un polygone, barre-le. Écris le nombre de côtés sous les autres.



DÉFI

⑦ Colorie le cœur en origami selon de le code couleur.

vert

3 sommets

bleu

4 sommets

jaune

5 sommets et plus

