


IDENTIFIER DES ANGLES

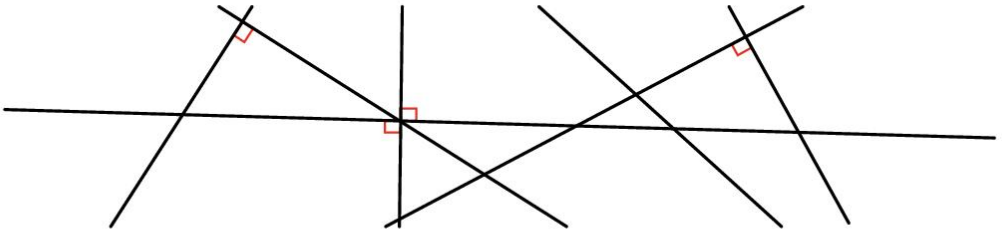
① **Colorie** en bleu les angles intérieurs de ces figures. **Indique** le nombre d'angles.



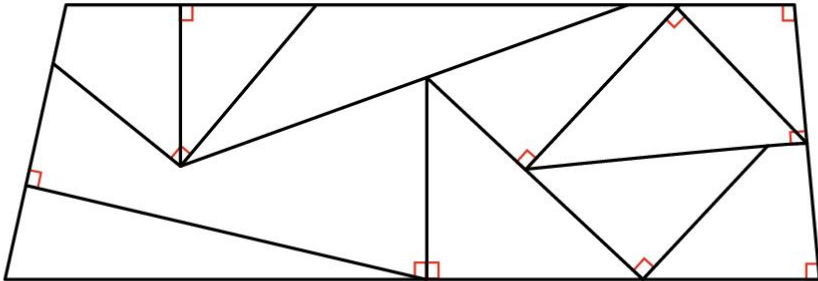
..... 3 4 4 6 4

REPÉRER DES ANGLES DROITS

② À l'aide de ton équerre, **trouve** les droites qui se croisent en faisant un angle droit. **Marque** ces angles en rouge.



③ À l'aide de ton équerre, **repère** dans cette figure les angles droits et **marque**-les en rouge.



TRACER DES ANGLES DROITS

④ À l'aide de ton équerre, **trace** un angle droit sur chaque point.

