

Jeudi 26 mars 2020

**Le compte est bon !**

En utilisant les opérations autorisées (+, - et/ou x), trouve le bon résultat en effectuant des opérations avec les nombres donnés. Tu n'es pas obligé de tous les utiliser, mais tu ne peux les utiliser qu'une seule fois (tu peux les souligner).

**Observe l'exemple et justifie tous tes calculs :**

<b>+ - X</b> <b>24</b> 1 - 2 - 3 - 4 - 5 ----- <b>4 x 5 = 20</b> ----- <b>20 + 1 + 3 = 24</b> ----- -----
---

<b>+ - X</b> <b>34</b> 1 - 2 - 3 - 4 - 5 ----- <b>5 x 3 = 15</b> ----- <b>15 x 2 = 30</b> ----- <b>30 + 4 = 34</b>
--

**Problème**

Gédéon mange 5 fruits par jour.








**Combien de fruits mange-t-il en une semaine ?**

**Justifie ton résultat et n'oublie pas de faire une phrase pour répondre à la question.**

Dans une semaine, il y a 7 jours.

Donc 5 fruits x 7 jours.

$$5 \times 7 = 35$$

Lundi		5 fruits
Mardi		10 fruits
Mercredi		15 fruits
Jeudi		20 fruits
Vendredi		25 fruits
Samedi		30 fruits
Dimanche		35 fruits

Gédéon mange 35 fruits en 7 jours.