
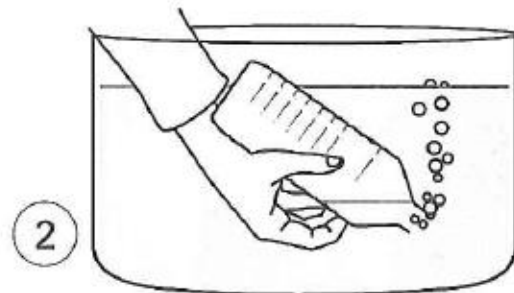
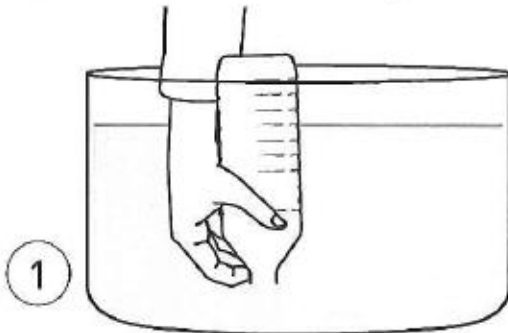


1 Entoure en vert ce qui met de l'air en mouvement et en bleu ce qui utilise de l'air en mouvement.



2 Observe cette expérience. Coche les bonnes réponses.



- Dessin 1 : dans la bouteille, il n'y a rien du tout.
- Dessin 1 : dans la bouteille, il y a de l'air.
- Dessin 2 : Il y a de l'air qui sort de la bouteille.
- Dessin 2 : Il y a de l'eau qui sort de la bouteille.

3 Complète ce texte avec les mots suivants : *se déplacer* – *odeur* – *invisible* – *objets* – *vent*.

L'air existe tout autour de nous. Il est invisible et n'a pas d'odeur. Le vent est de l'air en mouvement. L'air peut se déplacer ou faire fonctionner des objets.

Je m'évalue

oui

non

Je sais que l'air existe, qu'il peut se déplacer et faire fonctionner des objets.