

Problème 1 :

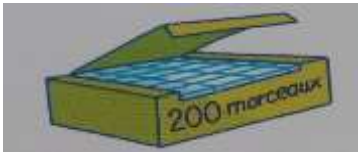


Combien de boîtes vont-ils remplir?

A la fin de l'entraînement, les élèves ramassent les 35 balles de tennis éparpillées. Ils les rangent par boîte de 5.

7

Problème 2 :

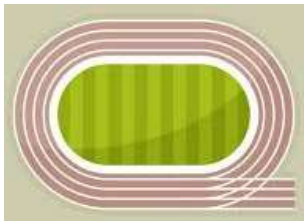


Combien pèse la boîte de sucre en grammes et en kilogrammes ?

Un morceau de sucre pèse 5 g.

1000 g 1 kg

Problème 3 :



A quelle heure sa course se termine-t-elle ?


Théo commence à courir à 14h05. Il court pendant 15 minutes, se repose 5 minutes et court encore 5 minutes.

14h30

Problème 4 :

Combien le chevalier noir a-t-il vaincu de dragons ?



Le chevalier blanc a combattu et vaincu . Le chevalier noir en a vaincu 3 fois plus.

21