

Énigme 1: SUITE LOGIQUE

15 points

Complétez la frise en choisissant la forme et la couleur qui conviennent.



Énigme 2: LE CARRE MAGIQUE

20 points

Remplacez les lettres par des nombres de 1 à 10 pour faire un carré magique.

La somme des nombres d'une ligne ou d'une colonne doit toujours être égale à 18. Attention, vous ne pouvez pas utiliser le même nombre deux fois.

A	B	5
2	C	10
D	8	E

Énigme 3: LES TROIS DÉS.

25 Points

Dessinez les faces des trois dés qui m'ont permis d'obtenir 8.

Je fais 8 avec 3 dés mais sur les dés, il n'y a ni 2, ni 6.

Aide : Une seule solution possible !

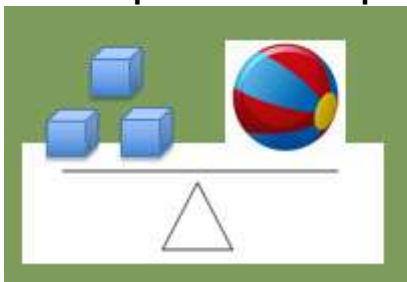
Énigme 4 : LES BALANCES D'OCTOPLUS

40 Points

Aidez Octopus à trouver combien de cubes il faut pour peser autant qu'une coupe.





3 cubes pèsent autant qu'1 ballon.



2 ballons pèsent autant qu'1 coupe



Annexes énigme 1



Annexes énigme 2

A	B	5
2	C	10
D	8	E

		5
2		10
	8	

A =

B =

C =

D =

E =

Annexes énigme 3



