

GDM 92



Groupe  
Départemental  
Mathématiques  
92

## ÉPREUVE 5 CP


RALLYE MATH 92  
4<sup>ème</sup> Édition  
2017-2018

### Énigme 1 : Les dés cachés

15 Points

Quel est le nombre de points de la face posée sur le dessus ?

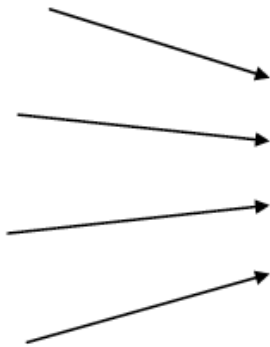
J'ai découpé les six faces de mon dé et je les ai posées à plat sur la table.



### Énigme 2 : La bonne flèche

20 Points

Quelle flèche touchera la balle ? Entourez la bonne flèche.



### Énigme 3 : La classe

25 Points

Qui suis-je ?

Sur ma photo de classe :

- Je n'ai personne à ma droite,
- Je ne suis pas assis,
- Je ne suis pas sur la rangée la plus en haut sur la photo.



### Énigme 4 : Monnaie de singe

40 Points (30 points pour la démarche et 10 points pour le résultat)

Quel est le singe qui a le plus d'argent ?

Chez les singes Hexacompta, il faut :

6 cacahuètes pour avoir une banane,

8 bananes pour avoir une noix de coco.


**Singe 1**



**Singe 2**



**Singe 3**



**Singe 4**



--	--	--	--	--	--

--	--	--	--	--	--



