

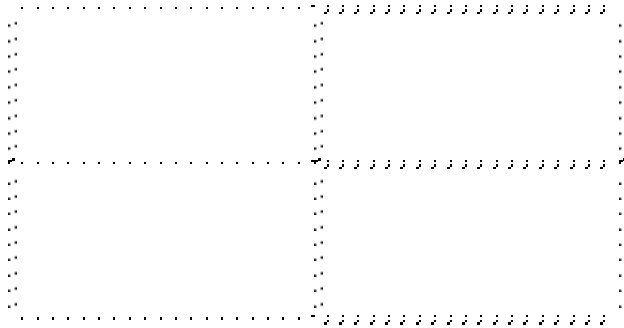
Énigme 1: CHACUN SA PLACE

15 Points

Placez les animaux.

Le chat  , le chien  , la poule  et le poisson 

- La poule est à droite du poisson.
- Le chien est au-dessous du poisson.

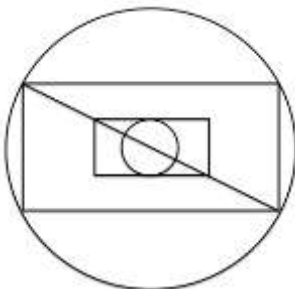


Énigme 2 : CACHE-CACHE FORMES

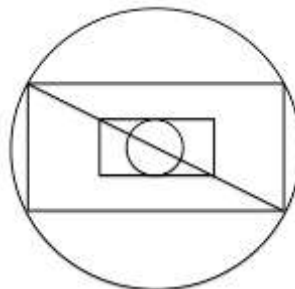
20 Points

Repérez et repassez sur les traits des cercles en rouge, des rectangles en bleu, des triangles en vert.

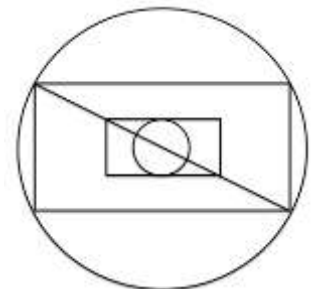
*cercles en rouge*



*rectangles en bleu*



*triangles en vert*



### Énigme 3 : SUDOKU

25 Points

Complétez les cases avec les chiffres 1 à 4.

*Attention :*

*Un même chiffre doit figurer une seule fois par colonne, par ligne et par zone.*

		1	
1	3		2
	4		1
2		3	

### Énigme 4 : LES AMIS

40 Points

Combien de poignées de main sont échangées en tout ?

5 amis se rencontrent et se serrent la main une fois.

