

Remplir correctement les informations demandées. Pensez au code classe !


CIRCONSCRIPTION N° _____ COMMUNE _____
 ECOLE _____ ENSEIGNANT(E) _____

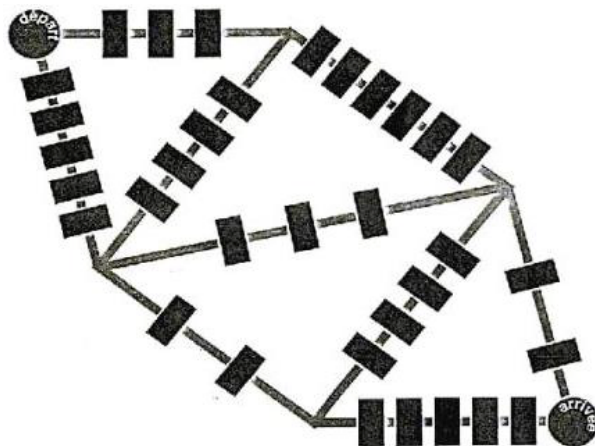
PARTIE RESERVÉE AUX MEMBRES DU JURY TOTAL DES POINTS OBTENUS _____

POINTS
(partie réservée
au jury)

Énigme 1 : SAUT D'OBSTACLES

20 points

Le kangourou  devra sauter _____ obstacles.



Énigme 2 : RANGEES DE JETONS

20 points

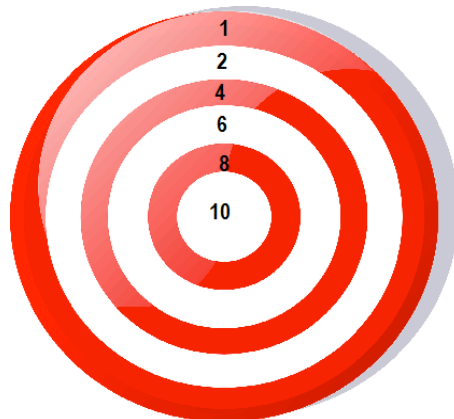
Il faut _____ jetons à Tom pour faire 5 rangées.

Énigme 3 : CIBLE

20 points

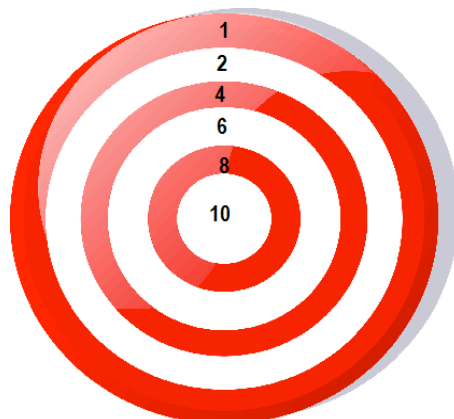
Solution n° 1 : les flèches ont atteint les zones :

_____ , _____ et _____



Solution n° 2 : les flèches ont atteint les zones :

_____ , _____ et _____



Énigme 4 : SUR LE CHEMIN

20 points

_____ animaux se promènent maintenant sur le chemin.

Énigme 5 : LE MUR

20 points

La somme des deux nombres qui restent est : _____