

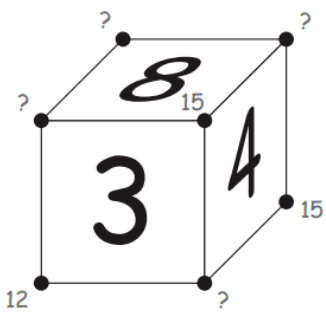



Remplir correctement les informations demandées. Pensez au code classe ! Merci d'agrafer les feuilles dans l'ordre.

CIRCONSCRIPTION N° _____ COMMUNE _____

ÉCOLE _____ ENSEIGNANT(E) _____

PARTIE RÉSERVÉE AUX MEMBRES DU JURY TOTAL DES POINTS OBTENUS _____

 Nous posons le joker sur l'énigme n° _____

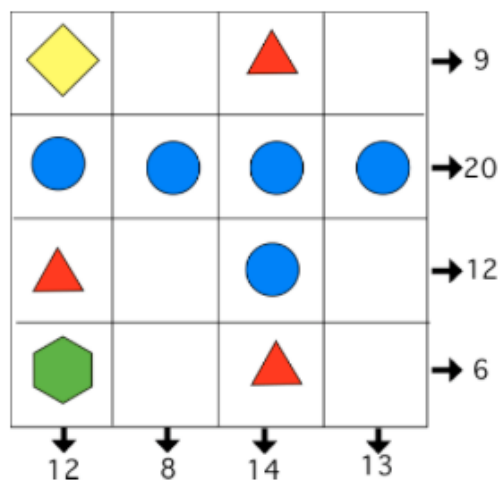
		POINTS (partie réservée au jury)
<p>Énigme 1 SOMME AU SOMMET</p> <div style="text-align: right; font-weight: bold;">20 points</div> 		
<p>Énigme 2 LE PETIT POUCKET</p> <div style="text-align: right; font-weight: bold;">10 points</div> <p>Solution n°1</p> <p>Assiette 1 Assiette 2 Assiette 3 Assiette 4 Assiette 5 Assiette 6 Assiette 7</p>  <p>Solution n°2</p> <p>Assiette 1 Assiette 2 Assiette 3 Assiette 4 Assiette 5 Assiette 6 Assiette 7</p>  <p>Solution n°3</p> <p>Assiette 1 Assiette 2 Assiette 3 Assiette 4 Assiette 5 Assiette 6 Assiette 7</p> 		
<p>Énigme 3 MANGEURS DE POULES</p> <div style="text-align: right; font-weight: bold;">15 points</div> <p>Le premier jour, la famille de renards a mangé _____ poules.</p>		

CODE CLASSE

E _ _ _

Énigme 4 SYMBOLES

10 points



Énigme 5 ROULETABILLE

15 points

Nombre de billes de **Jamel** _____

Nombre de billes d'**Eric** _____

Attention, pour cette énigme, vous devez donner la réponse **ET** expliquer votre raisonnement (comment vous avez trouvé la réponse). Vous pouvez écrire, dessiner, schématiser, mettre des légendes...tout ce qui permettra aux membres du jury de comprendre comment vous êtes parvenus à la réponse.

Énigme 6 PISCINE

30 Points (20 points pour la démarche, 10 points pour le résultat)

- **Raisonnement, démarche, explications**

20 points	
------------------	--

- **Réponse** : elle devra remplir son arrosoir _____ fois.

10 points	
------------------	--

S'il vous manquait de la place, ajoutez une feuille blanche en précisant votre code classe. Merci de les agraffer dans l'ordre.