





*Remplir correctement les informations demandées. Pensez au code classe !*

CIRCONSCRIPTION N° \_\_\_\_\_ COMMUNE \_\_\_\_\_

ECOLE \_\_\_\_\_ ENSEIGNANT(E) \_\_\_\_\_

PARTIE RESERVÉE AUX MEMBRES DU JURY TOTAL DES POINTS OBTENUS \_\_\_\_\_

 **Nous posons le joker sur l'énigme n° \_\_\_\_\_**

		POINTS partie réservée au jury
<p><b>Énigme 1 : LE NOMBRE SECRET</b></p> <p>Le nombre secret est : _____</p>	<b>10 points</b>	
<p><b>Énigme 2 : LES TRIANGLES CACHES</b></p> <p>Il y a _____ triangles dans la figure.</p>	<b>15 points</b>	
<p><b>Énigme 3 : TREFLE, CARREAU, CŒUR, PIQUE.</b></p> <p> = _____  = _____  = _____  = _____</p>	<b>20 points</b>	
<p><b>Énigme 4 : LES CUBES</b></p> <p>_____</p> <p>_____</p> <p>_____</p>	<b>15 points</b>	
<p><b>Énigme 5 : QUELLE HEURE EST-IL, MADAME PERSIL ?</b></p> <p>La pendule qui est à la bonne heure est la pendule _____</p>	<b>10 points</b>	

Attention, pour cette énigme, vous devez donner la réponse **ET** expliquer votre raisonnement (comment vous avez trouvé la réponse). Vous pouvez écrire, dessiner, schématiser, mettre des légendes...tout ce qui permettra aux membres du jury de comprendre comment vous êtes parvenus à la réponse.

### Énigme 6 : LES PETITES BETES PAS SI BETES

**30 POINTS**

(20 points pour la démarche et 10 points pour le résultat)

- Raisonnement, démarche, explications

**20 points**

- Réponse : \_\_\_\_\_ et \_\_\_\_\_



**10 points**

S'il vous manquait de la place, ajoutez une feuille blanche en précisant votre code classe. Merci de les agraffer dans l'ordre.