

**Énigme 1 : A VOUS DE LANCER !**

**15 Points**

**Quels nombres ont été touchés par Dounia et Isabelle?**

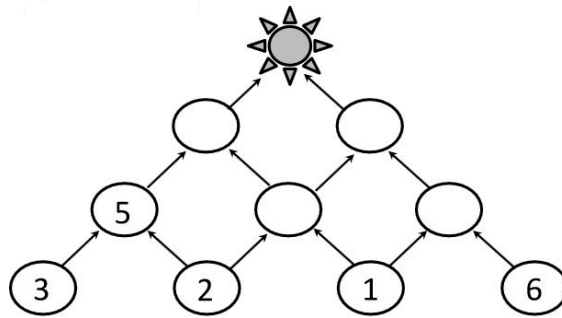
À la fête de l'école, Dounia et Isabelle lancent 4 balles chacune sur la cible en forme de chat. Elles gagnent chacune 19 points. Leurs lancers sont différents.



**Énigme 2 : LE SOLEIL**

**20 Points**

**Combien vaut le soleil ?**



**Énigme 3 : CACHE-CACHE FORMES**

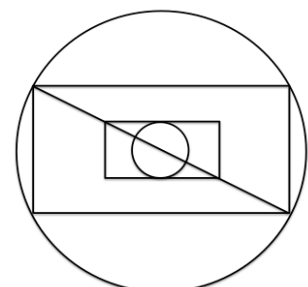
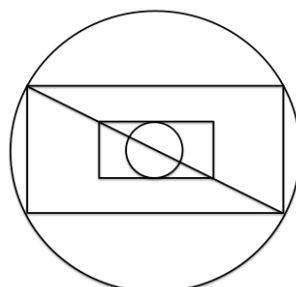
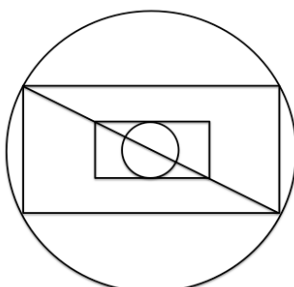
**25 Points**

**Repérez et repassez sur les traits des cercles en rouge, des rectangles en bleu, des triangles en vert.**

*cercles en rouge*

*rectangles en bleu*

*triangles en vert*



Attention, pour cette dernière énigme, vous devez donner la réponse **ET** expliquer votre raisonnement (comment vous avez trouvé la réponse). Vous pouvez écrire, dessiner, schématiser, mettre des légendes...tout ce qui permettra aux membres du jury de comprendre comment vous êtes parvenus à la réponse.

#### Énigme 4 : LES TENUES DE PACO

40 Points

(30 points pour la démarche, 10 points pour le résultat)

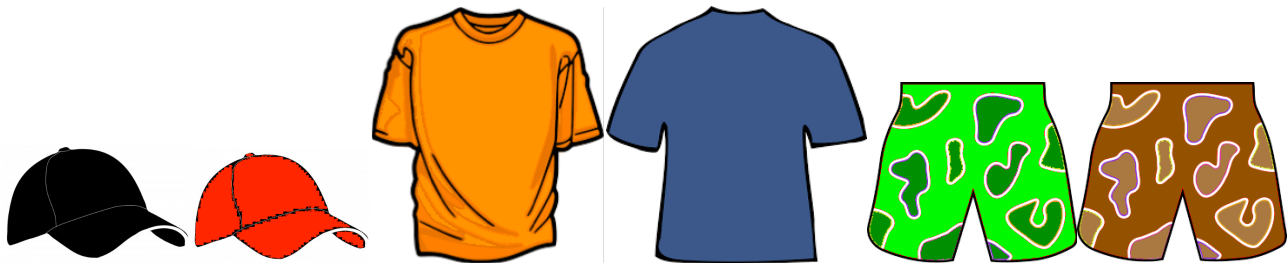
**Combien de tenues différentes Paco peut-il porter ?**

Paco aime s'habiller de manière différente chaque jour.

Il porte toujours une casquette, un tee-shirt et un short.

Il a :

- Une casquette noire et une casquette rouge
- Un tee-shirt orange et un tee-shirt bleu
- Un short vert et un short marron



Annexes

