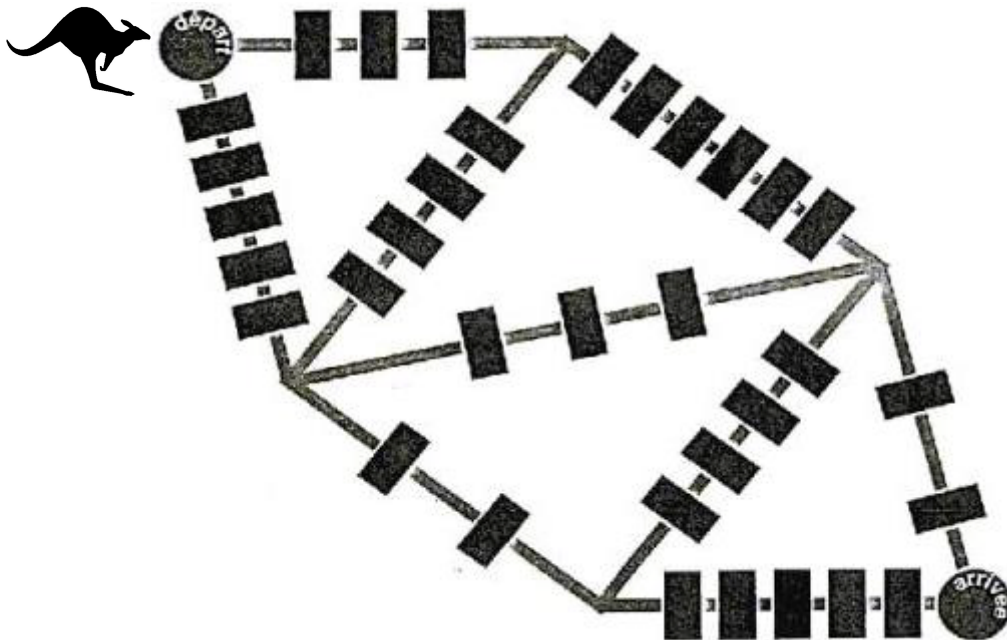


Énigme 1: SAUT D'OBSTACLES

20 Points

Combien le kangourou devra-t-il sauter d'obstacles ?

Du « départ » à « l'arrivée », le kangourou choisit le chemin où il aura le moins d'obstacles à sauter.

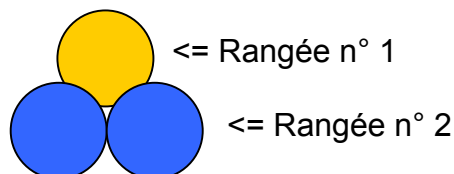


Énigme 2 : RANGEES DE JETONS

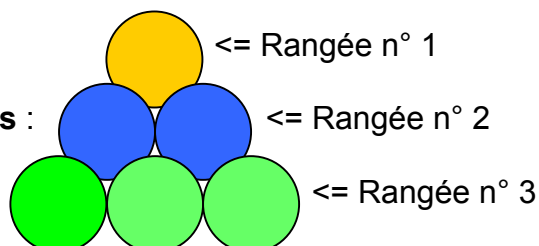
20 Points

Combien faut-il de jetons à Tom pour faire 5 rangées ?

Avec 3 jetons, il fait 2 rangées :



Avec 6 jetons, il fait 3 rangées :

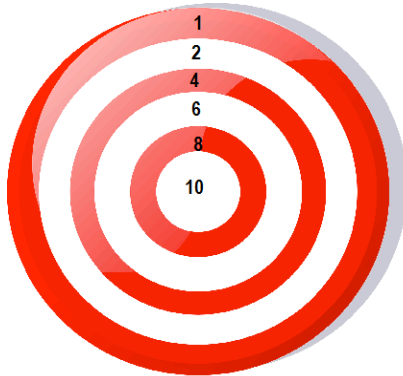


Énigme 3 : CIBLE

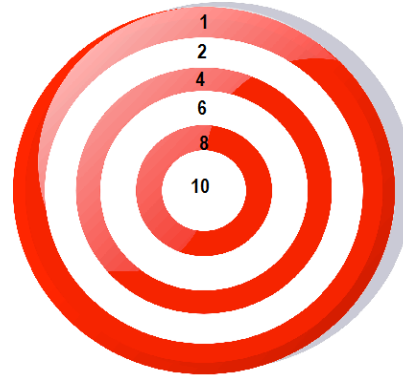
20 Points

Dessine les flèches.

Romain a lancé 3 flèches. Il a obtenu 15 points. Il y a 2 solutions.



1^{ère} solution





2^e solution



Énigme 4 : SUR LE CHEMIN

20 Points

Combien d'animaux se promènent maintenant sur le chemin?

9 escargots  avancent sur le chemin.

Puis 3 poules  arrivent. Elles mangent chacune 2 escargots .

Enfin, 1 renard  arrive et mange à son tour 2 poules .

Énigme 5 : LE MUR

20 Points

Quelle est la somme des deux nombres qui restent ?

Groupe les nombres par 2 quand leur somme est égale à 13.

1		3		9		5
		11				
				8		12
	8		7			
						6
10		6		4		2

Annexes (en cas de besoin)

